




FIGURAS GEOMÉTRICAS PLANAS

TU NOMBRE:



Une cada figura con la imagen



Une cada figura con el nombre correspondiente



rectángulo

círculo

óvalo

rombo

triángulo

corazón










cuadrado

estrella





Selecciona las figuras que tienen la misma forma de la muestra



Elige la opción correcta a cada pregunta

UN TRIANGULO TIENE

Dos lados iguales y uno desigual

Tres lados

Cuatro lados

la figura que observas recibe el nombre de:



cuadrado

rombo

pentágono