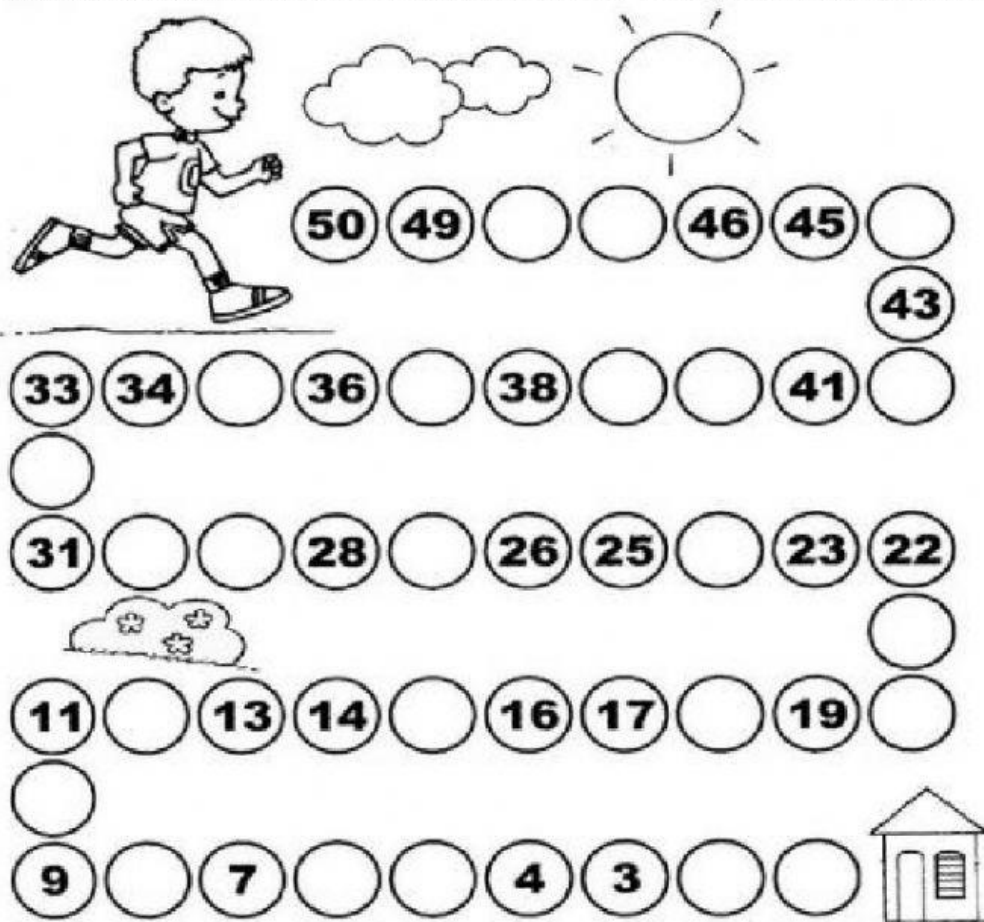


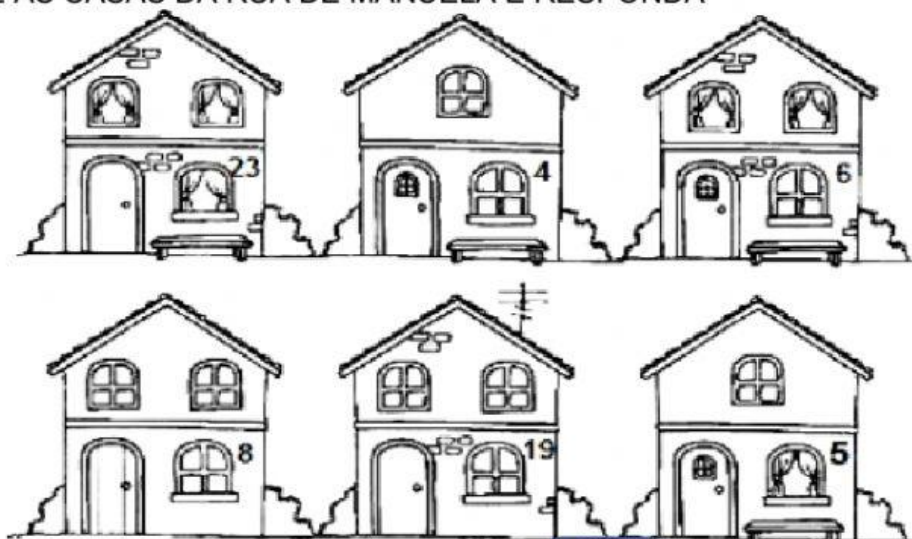
Aluno(a): _____

Professora: _____

1 -) VAMOS AJUDAR JOÃO A CHEGAR EM SUA CASA COMPLETANDO A SEQUÊNCIA NUMÉRICA:



2 -) OBSERVE AS CASAS DA RUA DE MANUELA E RESPONDA

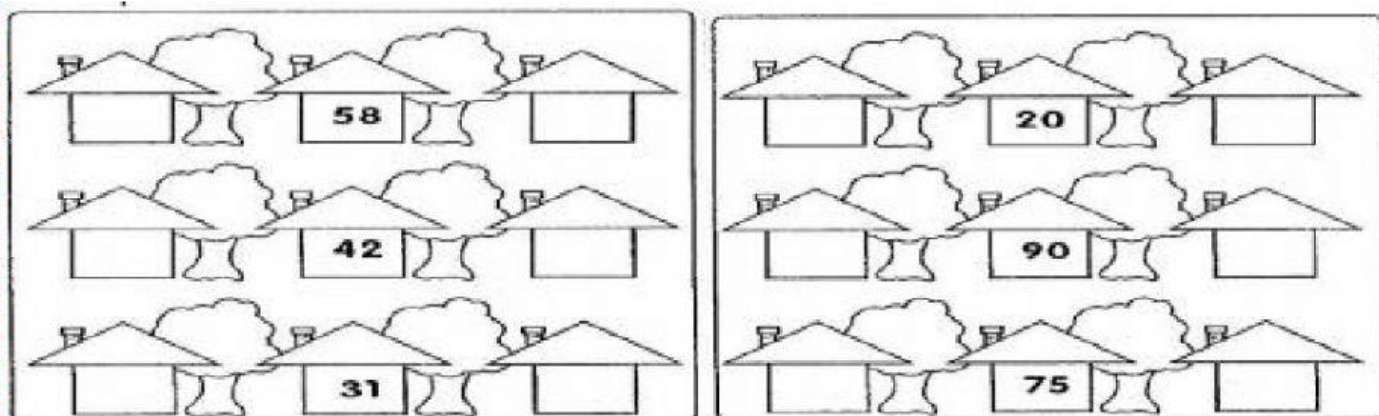


A) QUAL O NÚMERO DA CASA QUE TEM ANTENA?

B) QUAL O NÚMERO DA CASA QUE TEM CORTINA EM TODAS AS JANELAS?

C) QUAL O NÚMERO DA CASA QUE FICA ENTRE AS CASAS 23 E 6?

3 -) COLOQUE O ANTECESSOR E O SUCESSOR DE CADA VIZINHO.



RESPONDA:

A- QUE NÚMERO ESTÁ ENTRE 20 E 22?

B- QUAL O ANTECESSOR DO 60?

C- QUAL O SUCESSOR DE 79?

4 -) REGISTRE O ANTECESSOR E O SUCESSOR DE CADA NÚMERO ABAIXO.



5 -) COLOQUE OS NUMERAIS EM ORDEM CRESCENTE.

79 54 22 100 48 3 10 31

6 -) COLOQUE OS NUMERAIS EM ORDEM DECRESCENTE.

0 34 76 99 41 12 25 87