

PRÁCTICANDO

INSTRUCCIONES: Estimado estudiante lee cada pregunta y responde adecuadamente.
Mucha Suerte.!!

1.- Completa los espacios

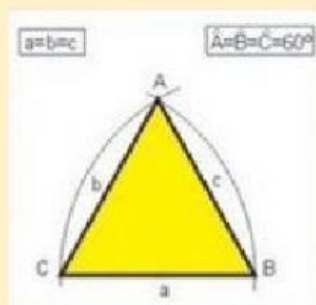
a) Un _____ es un polígono de _____ lados; está formado por tres de recta que se denominan _____, o tres puntos no _____ que se llaman _____

b) Triángulo _____ : si sus tres lados tienen la misma longitud

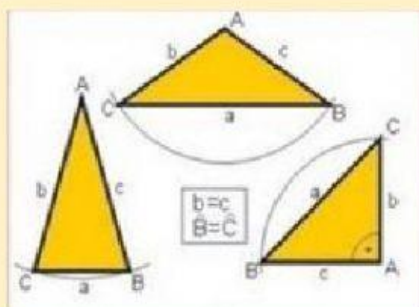
b) Triángulo _____ : si tiene dos lados y dos ángulos iguales

c) Triángulo _____ : si todos sus lados y ángulos son distintos.

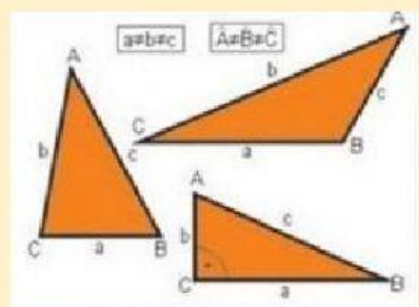
3.- Relaciona cada clase de triángulo según sus lados.



ESCALENO

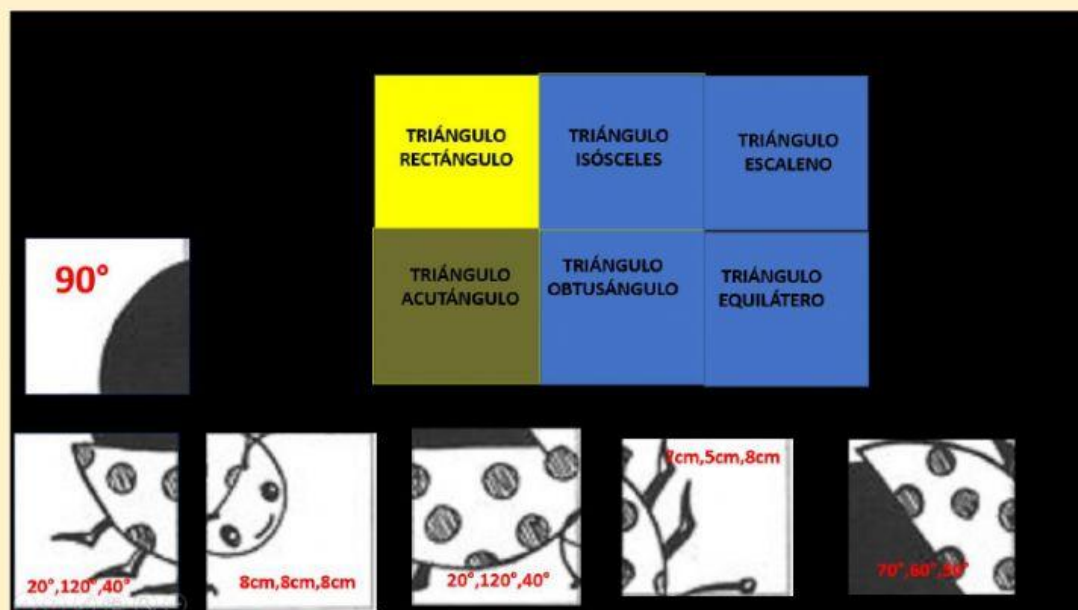


EQUILÁTERO

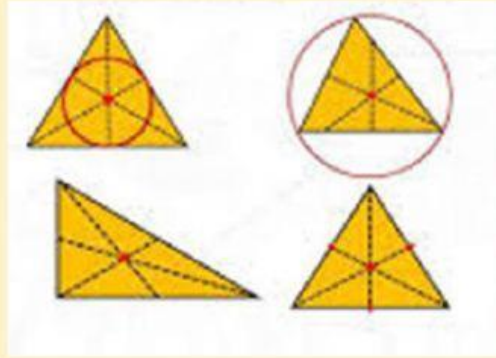


ISÓSCELES

4.- Mueve las piezas y descubre que animal esta escondido.



5. Observa el video y selecciona.



a) Es la semirrecta con origen en un vértice de un ángulo que divide en dos partes iguales

MEDIANA

BISECTRIZ

MEDIATRIZ

b) Es el punto de intersección de las tres bisectrices.

CIRCUNCENTRO

ORTOCENTRO

INCENTRO