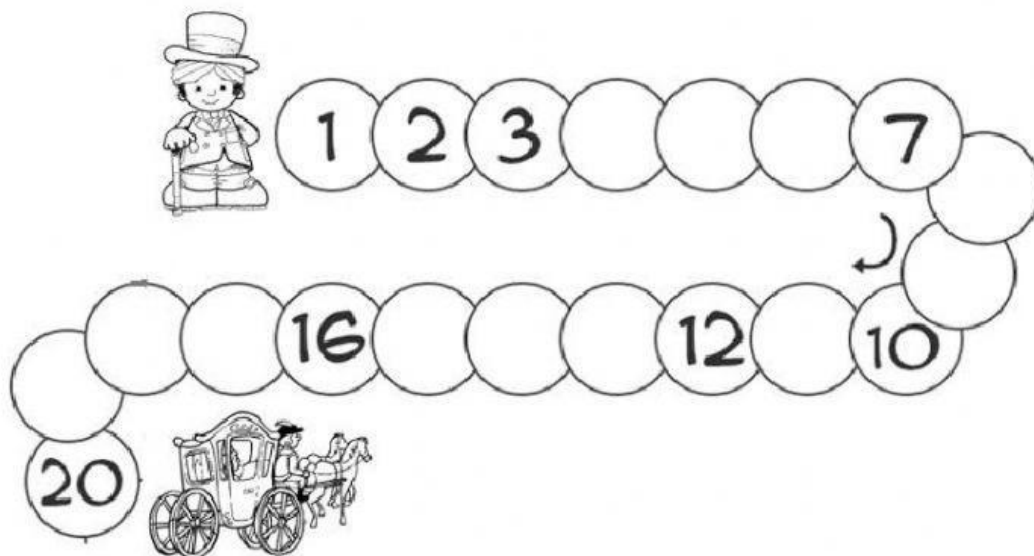
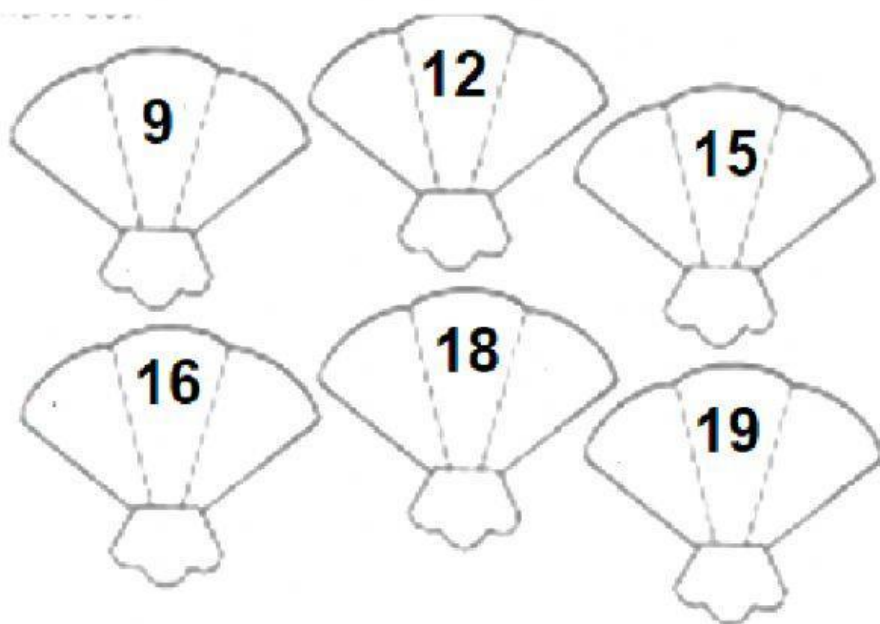


## MATEMÁTICA COLONIAL

1. COMPLETA EL CAMINO QUE DEBE REALIZAR EL CABALLERO PARA LLEGAR A SU CARRUAJE.  
COLOREA EL DIECISÉIS, DOCE Y VEINTE.




- ESCRIBE EL ANTERIOR Y POSTERIOR DE CADA NÚMERO.



## FAROLERO A SU TRABAJO


1. ¿QUÉ FAROLES ENCENDIÓ ESTE FAROLERO? NOMBRALOS EN VOZ ALTA.



ORDENALOS DE MENOR A MAYOR.

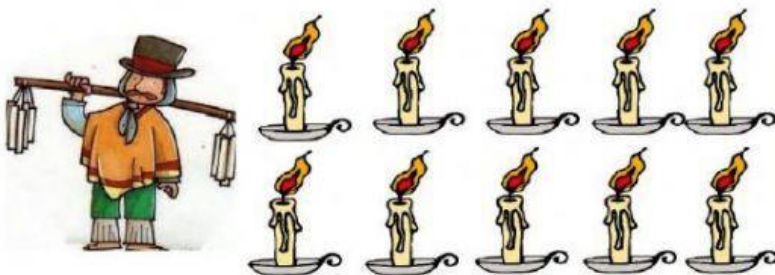
--	--	--	--	--	--	--	--	--	--

2. CADA VENDEDOR PUEDE LLEVAR 20 PRODUCTOS DE SU MERCADERÍA. CUENTA Y ESCRIBE CUÁNTO TIENE CADA UNO Y CUÁNTO LES FALTA PARA COMPLETAR 20. AYÚDATE CON LOS PALITOS DE HELADO.



TIENE
-------

FALTAN
--------



TIENE
-------

FALTAN
--------



TIENE

FALTAN



TIENE

FALTAN