


REPASO TEMA 9 MATEMÁTICAS

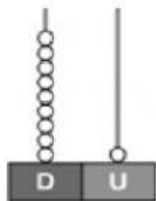
¿Qué número es? Cuenta y completa.



D	U

decenas y unidades

+ =



D	U

decenas y unidad

+ =

¿Cómo se llaman estos números?

87:

76:

95:

Suma.

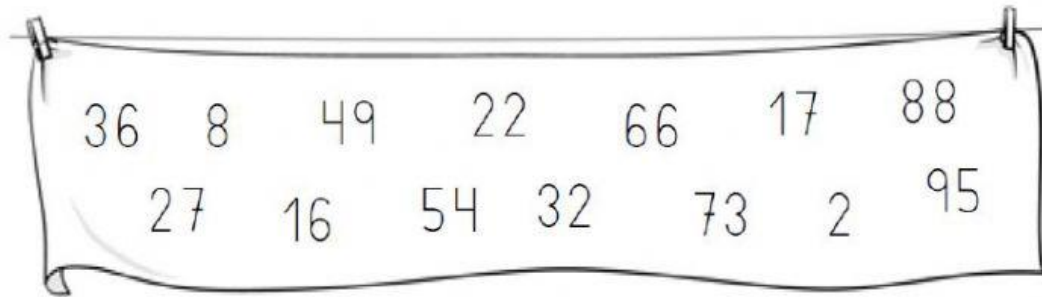
D U					
○	<table border="0"> <tr> <td>11</td> <td>○</td> </tr> <tr> <td>13</td> <td></td> </tr> </table>	11	○	13	
11	○				
13					
+ 21					
<hr/>					
<input type="text"/>					

D U					
○	<table border="0"> <tr> <td>43</td> <td>○</td> </tr> <tr> <td>33</td> <td></td> </tr> </table>	43	○	33	
43	○				
33					
+ 3					
<hr/>					
<input type="text"/>					

D U					
○	<table border="0"> <tr> <td>15</td> <td>○</td> </tr> <tr> <td>23</td> <td></td> </tr> </table>	15	○	23	
15	○				
23					
+ 30					
<hr/>					
<input type="text"/>					



D U					
○	<table border="0"> <tr> <td>24</td> <td>○</td> </tr> <tr> <td>31</td> <td></td> </tr> </table>	24	○	31	
24	○				
31					
+ 2					
<hr/>					
<input type="text"/>					

Coloca los números en su lugar correspondiente:



NÚMEROS PARES	NÚMEROS IMPARES

Observa la fila de animales y completa los ordinales.
Después, escribe qué lugar ocupa cada animal en la fila.



¿Cuántos puntos tienen en total los tres primeros equipos de esta liga? Observa el tablón y resuelve.




COLEGIO LA LUNA - FÚTBOL SALA	
Los tigres	13 puntos
Los lince	12 puntos
Las panteras	10 puntos
Los leones	9 puntos

Datos

□, □ y □

Operación



Solución

Tiene