

Valor Relativo de un Número

Indique las unidades y las Decenas de los siguientes números

a. 34 d u

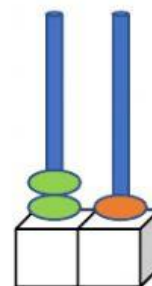
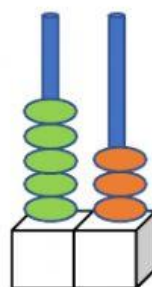
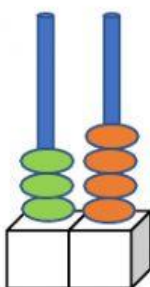
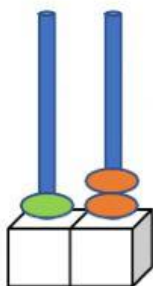
b. 45 d u

c. 16 d u

d. 19 d u

e. 20 d u

Cuento y luego escribo las cantidades en las casillas de Unidades y Decenas



Dictado utilizando la Caja de Valores

a.

b.

c.

d.

f.

g.