



EVALUACIÓN DE CIENCIAS NATURALES

1. Une con una línea según corresponda:



OPACO


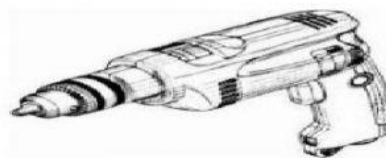


TRANSPARENTE



TRASLUCIDO

2. Escribe f a los sonidos fuertes y s a los sonidos suaves:



Une cada dibujo con la categoría a la que corresponda

Alimentos

Medios de
transporte

Animales

Objetos

Vegetales




3. Marca con una X los elementos que funcionan con electricidad:



• Observa y completa



La sandía pesa _____ kg



Las patatas pesan _____ kg