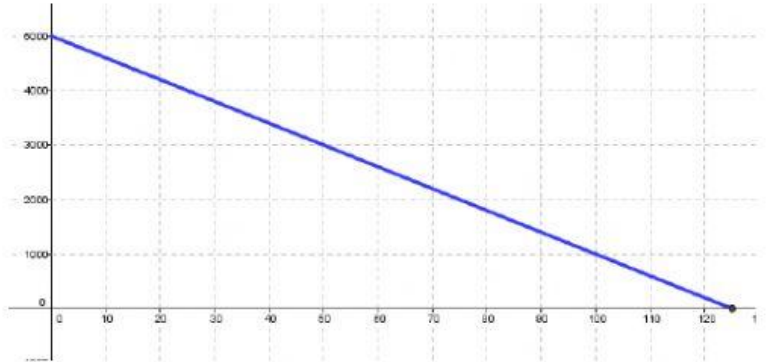


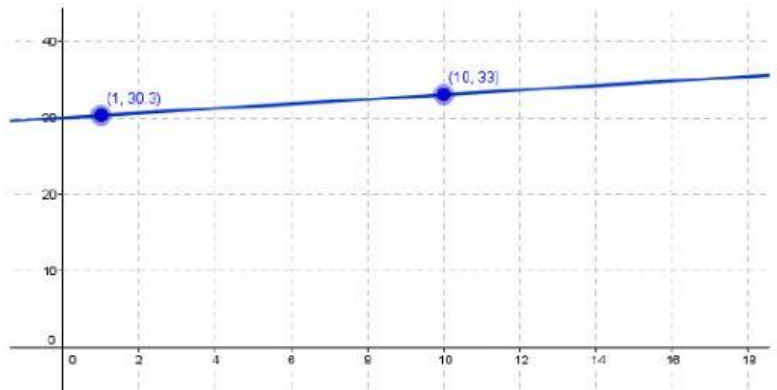
Modelo lineal: $y = mx + b$

☐ Asocia cada enunciado con la expresión (fórmula/gráfica) que consideres lo modeliza

El siguiente del doble de un número



El anterior de un número



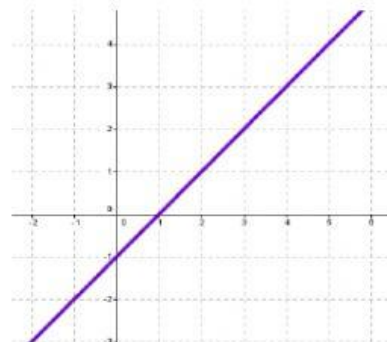
Nuestro peso en la luna es la Sexta parte que en la Tierra

$$y = 9x + 10$$

Martín repara PC y cobra un sueldo fijo de \$30 mil, más una comisión de \$300 por cada computadora arreglada

$$y = 2x + 1$$

Una pileta de 5 mil litros se varía a razón de 30 litros por minuto



Lucía lleva andando en bicicleta 10 kilómetros y sigue su viaje a una velocidad de 9 km/h

$$y = \frac{1}{6}x$$