



Evaluación Sumativa Unidad 2

1° Observa el tablero. Luego ubica correctamente las figuras de acuerdo a la coordenadas que se indican:

	A	B	C	D	E	F	G
1							
2							
3							
4							
5							
6							
7							



El árbol se encuentra en el cuadrante B2



El escaño se encuentra en el cuadrante E2



El plátano se encuentra en el cuadrante B6



El balón de fútbol se encuentra en el cuadrante A4

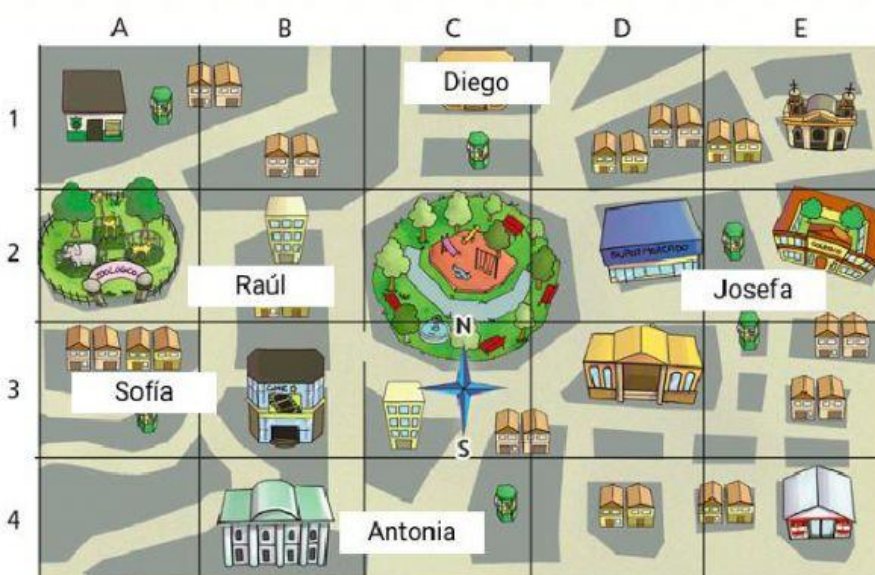


La niña se encuentra en el cuadrante D5



El perro se encuentra en el cuadrante F4

2° Arrastra en los nombres de los niños el punto cardinal en que se ubican en relación al parque:



Norte

Sur

Este

Este

Oeste

Oeste

3º Arrastra el ícono hacia los puntos que te indican las pistas:

Pistas

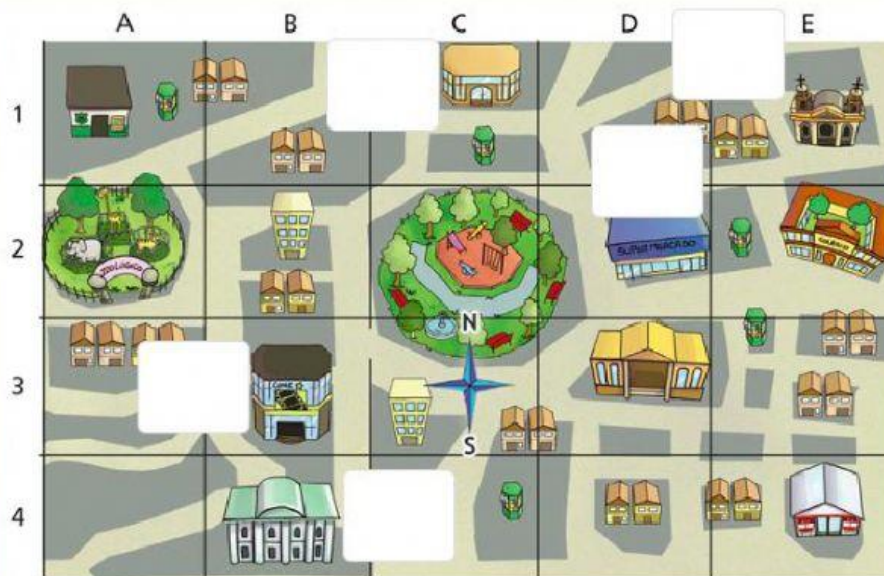
El cine está al oeste del parque.

La iglesia está al este del parque.


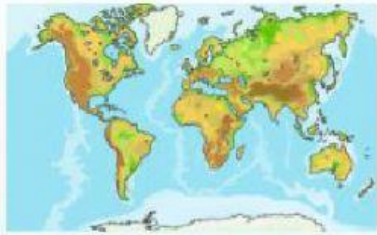
El museo está al sur del cine.

El restaurante está al oeste de la iglesia.

El supermercado está al este del parque.



4º Arrastra según corresponda:

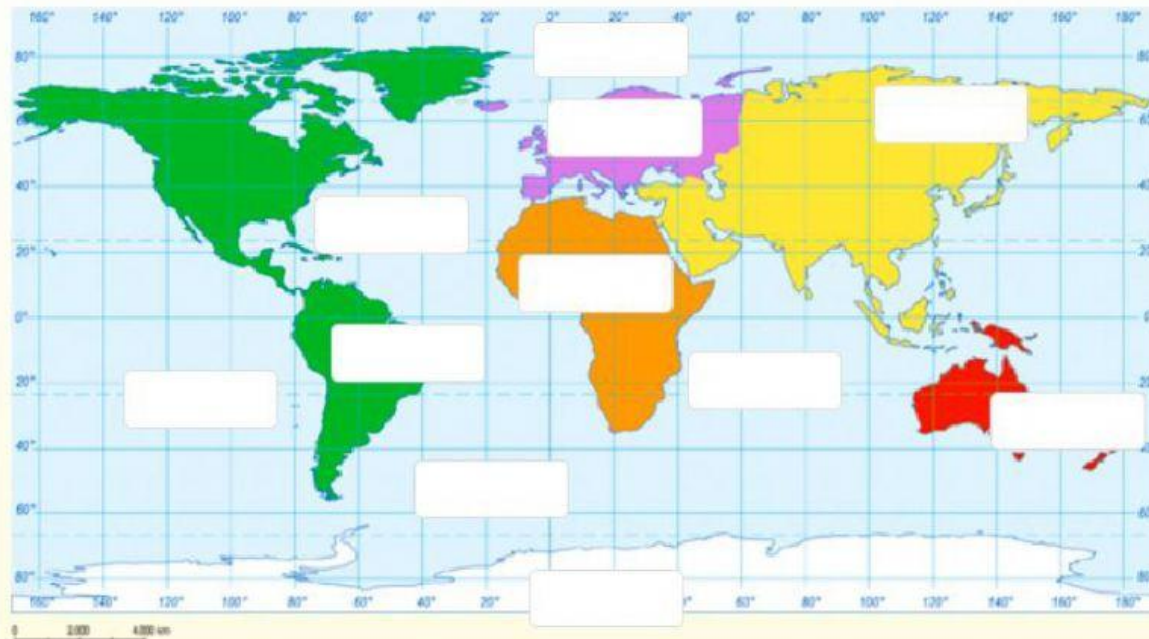
Permiten apreciar toda la superficie terrestre, pero con deformaciones

Por su forma esférica no produce deformaciones de la Tierra en ninguna de sus partes

Es la representación más exacta de la Tierra hecha a escala

Es una representación plana de la Tierra en dos dimensiones

5º Arrastra las etiquetas de continentes y océanos al planisferio según corresponda:



Oceania

África

Antártico

Índico

Antártica

Pacífico

Ártico

Atlántico

América

Europa

Asia

6º Une los distintos tipos de mapas con sus respectivas definiciones:



Representa los recursos existentes en la Tierra

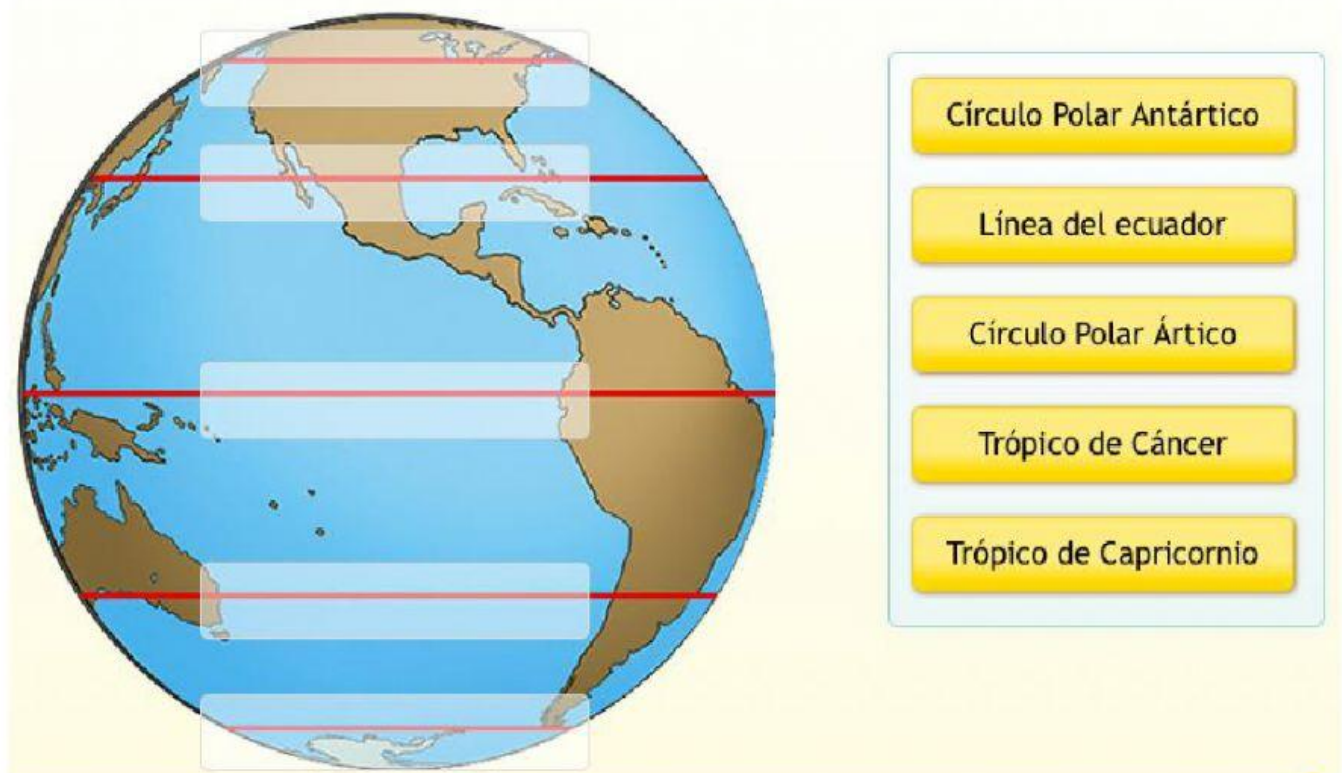


Representa los límites sobre el territorio establecidos por los seres humanos

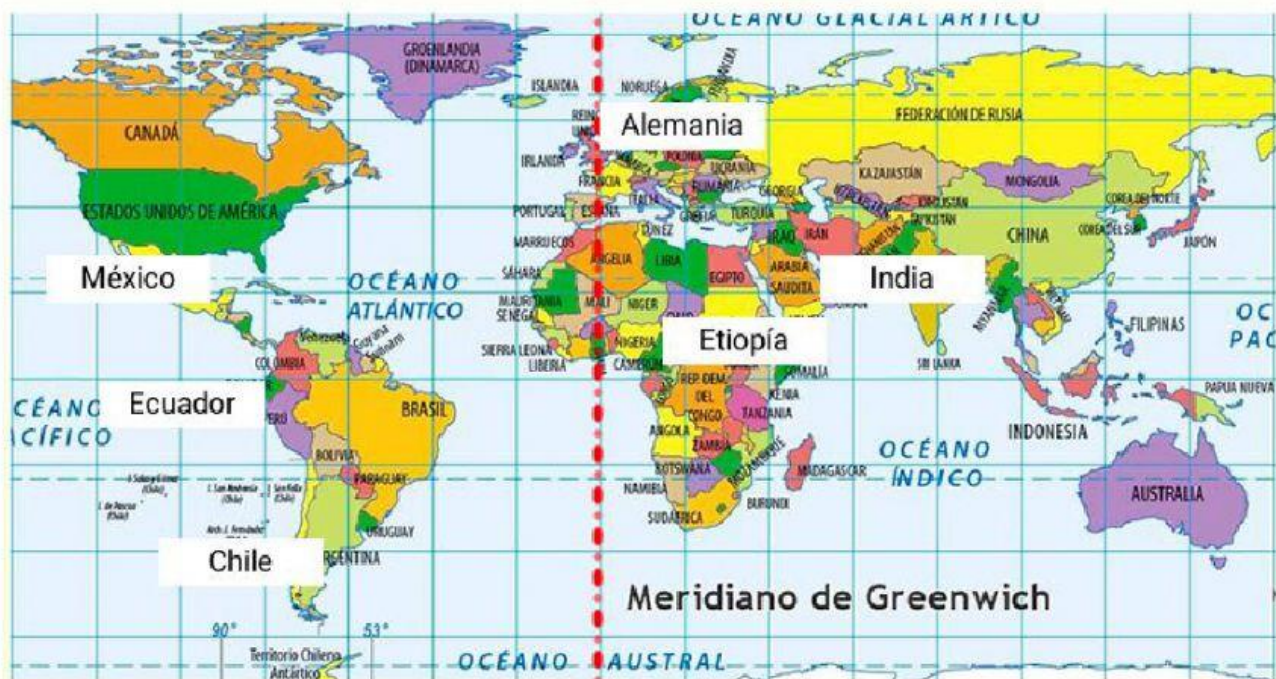


Representa las distintas formas de la superficie terrestre

7º Observa el mapa. Luego, ubica el nombre de los paralelos donde corresponda:



8º Observa el siguiente mapa del mundo. Luego arrastra el hemisferio al cual pertenecen los países mostrados:



Hemisferio Este

Hemisferio Este

Hemisferio Este

Hemisferio Oeste

Hemisferio Oeste

Hemisferio Oeste

9° Observa la imagen. Luego, ubica el meridiano principal y los dos hemisferios que este genera:

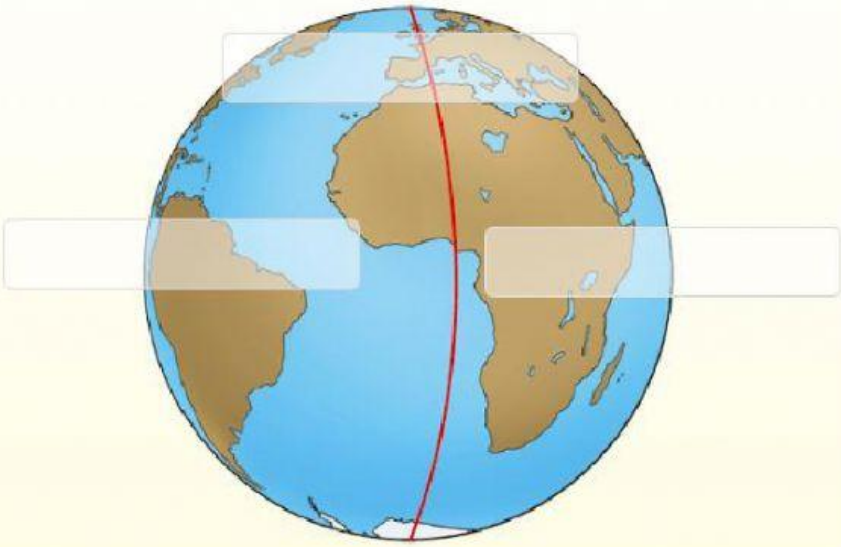
Hemisferio Norte

Hemisferio Oeste

Hemisferio Este

Greenwich

Hemisferio Sur



10° Arrastra las etiquetas para completar la información sobre paralelos y meridianos:

Paralelos	Meridianos
Son:	Son:
<div></div>	<div></div>
Paralelo principal:	Meridiano principal:
<div></div>	<div></div>
Divide la Tierra en:	Divide la Tierra en:
<div></div>	<div></div>
Extensión de cada hemisferio:	Extensión de cada hemisferio:
<div></div>	<div></div>

0° a 90°

0° a 180°

Hemisferios norte y sur

Líneas imaginarias en forma de circunferencia que rodean la Tierra

Semicírculos imaginarios que recorren la superficie de la Tierra de Polo a Polo

Greenwich

Línea del ecuador

Hemisferios este y oeste