

Área de figuras sombreadas



Nombre del alumno:

Para encontrar el área de figuras sombreadas sigue estos pasos:

1. Obtén el área de las figuras que forman la figura sombreada.
2. Ahora debes restar el área más grande menos el área más pequeña.

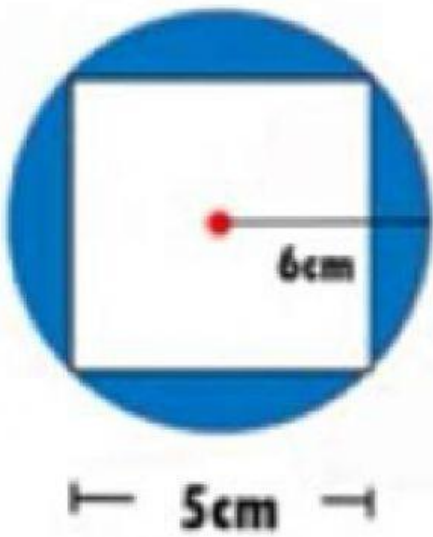
Instrucciones: Encuentra el área de la figura sombreada.



Área del cuadrado = cm²

Área del triángulo = cm²

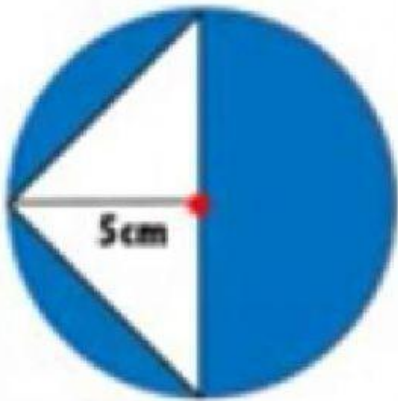
Área de la figura sombreada = cm²



Área del círculo = cm^2

Área del cuadrado = cm^2

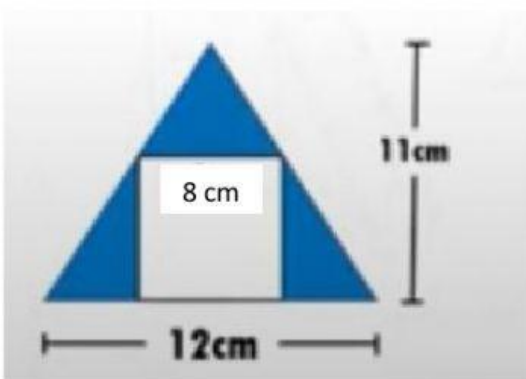
Área de la figura sombreada = cm^2



Área del círculo = cm^2

Área del triángulo = cm^2

Área de la figura sombreada = cm^2



Área del triángulo = cm^2

Área del cuadrado = cm^2

Área de la figura sombreada = cm^2