



Guía de Aprendizaje Historia geografía y ciencias sociales.
Unidad 1 "El tiempo y nuestra familia"

Objetivo de la clase: Evaluar los aprendizajes adquiridos en esta unidad.

Completa el calendario :día, fecha,mes clima y estación arrastrando según corresponda.

MI CALENDARIO

DIAS
LUNES
MARTES
MIÉRCOLES
JUEVES
VIERNES
SABADO
DOMINGO

MESES
ENERO
FEBRERO
MARZO
ABRIL
MAYO
JUNIO
JULIO
AGOSTO
SEPTIEMBRE
OCTUBRE
NOVIEMBRE
DICIEMBRE

CLIMA
[Sun, Cloud, Rain, Snow icons]

ESTACIONES
OTOÑO INVIERNO PRIMAVERA VERANO

FECHA
DÍA: []
FECHA: []
MES: []
Clima: [] Estación: []
[1 0 2 3 4]
[5 6 7 8 9]

Momentos del día: (mañana, tarde y noche)

Escucha con mucha atención a tu profesora y responde que momento del día corresponde cada acción marcando la alternativa correcta.

1.- Dormir.

A.- Mañana B.- Tarde C.-Noche

2.- Tomar once.

A.- Mañana B.- Tarde C.-Noche

3.- Almorzar.

A.- Mañana B.- Tarde C.-Noche

4.- Clases virtuales.

A.- Mañana B.- Tarde C.-Noche

5.- Hago mi cama

A.- Mañana B.- Tarde C.-Noche



Marisol Arriagada Cárcamo
Profesora General básica

6.- ¿Qué representa la imagen?



- A. Una sala del futuro.
- B. Una sala del pasado.
- C. Una sala del presente.

7.- ¿Qué diferencia hay entre la imagen A y la imagen B?



A



B

- A. Que las acciones de las imágenes A y B se realizan de día.
- B. La acción de la imagen A se realiza de día y la de la imagen B, de noche.
- C. La acción de la imagen A se realiza de noche y la de la imagen B, de día.

8. ¿En qué día de la semana podrías hacer lo que se observa en la imagen?




- A. Lunes.
- B. Sábado.
- C. Miércoles.




Marisol Arriagada Cárcamo
Profesora General básica

9. ¿Qué tienen en común ambas imágenes?



- A. Se realizan los días en la mañana.
- B. Se realizan el fin de semana.
- C. Se realizan un día martes o miércoles.

10. ¿Qué mes es anterior al que se observa en el calendario?

 **JUNIO**

Lunes	Martes	Miércoles	Jueves	Viernes	Sábado	Domingo
	1	2	3	4	5	6
7	8	9	10	11	12	13
14	15	16	17	18	19	20
21	22	23	24	25	26	27
28	29	30				

- A. Mayo.
- B. Julio.
- C. Agosto.

11. Si Ana y Juan tienen clase de arte hoy lunes, ¿qué es correcto afirmar a partir de las imágenes?

Lunes y miércoles



Martes y jueves




- A. Mañana, Ana y Juan tienen deporte.
- B. Mañana, Ana y Juan tienen arte.
- C. Mañana tienen ambas actividades.



Marisol Arriagada Cárcamo
Profesora General básica

12. ¿Cuántas semanas se observan en este mes?



ABRIL 2021						
Lunes	Martes	Miércoles	Jueves	Viernes	Sábado	Domingo
			1	2	3	4
5	6	7	8	9	10	11
12	13	14	15	16	17	18
19	20	21	22	23	24	25
26	27	28	29	30		

A. 5

B. 4

C. 3

13.- Si hoy es Lunes, ¿mañana es?

A. JUEVES

B. -SABADO

C. MARTES

Ordena las colaciones de la semana colocando los números en cada círculo del 1 al 5. Luego responde las preguntas



14.-¿Qué colación come el día lunes?

A.-Leche

B.-plátano

C.- manzana

15.- ¿Qué día lleva yogur?

A.-Lunes

B.-martes

C.- miércoles



Marisol Arriagada Cárcamo
Profesora General básica

Completa los días faltantes marcando la(s) alternativa(s) correcta.

16.-

Martes		
--------	--	--

A.- Lunes

B.- Miércoles

C.- Jueves

17.-

		Viernes		
--	--	---------	--	--

A.- Jueves, sábado, domingo y lunes.

B.- Sábado, domingo, lunes y martes.

C.- miércoles, jueves, sábado y domingo.

18.- Observa el mes de mayo y responde las preguntas marcando la opción correcta.

Mayo						
Lunes	Martes	Miércoles	Jueves	Viernes	Sábado	Domingo
					1	2
3	4	5	6	7	8	9
10	11	12	13	14	15	16
17	18	19	20	21	22	23
24	25	26	27	28	29	30
31						

a. ¿En qué día de la semana comienza este mes?

SÁBADO

DOMINGO

b.- ¿Cuántos días tiene este mes?

30

31



Marisol Arriagada Cárcamo
Profesora General básica

19.- Une las oraciones según corresponda.

El año tiene	Enero
Una semana tiene	7 días
El primer mes del año es:	4 semanas
El último mes del año es:	Diciembre
Un mes puede estar formado por:	12 meses

20.- Completa los meses del año escribiendo las letras que faltan.

A.-F____ BR____ R____

C. J____ L____

B.-____ Y____

D.-D____ C____ BR____

Escribe y responde:

21.- Escribe el año en que naciste.

22.- ¿Cuál es la fecha de tu cumpleaños?

AUTOEVALUACIÓN

Marca la opción que te sientas identificado (a).



Marisol Arriagada Cárcamo
Profesora General básica



Comprendo lo que aprendí en esta unidad y puedo explicarlo a mi familia con facilidad.



Comprendo lo que aprendí en esta unidad; pero necesito un poco de ayuda para explicarlo.



No estoy seguro de lo que aprendí; necesito mucha ayuda para explicarlo.



Marisol Arriagada Cárcamo
Profesora General básica