



MATEMATICA

Nome dell'attività: Calcola la metà.




Data 16/04/20

Leggi attentamente le domande e poi segna con una crocetta.			
	BENE	COSÌ COSÌ	POTEVA ANDARE MEGLIO
Ho svolto con facilità questa attività.			
Questa attività mi è piaciuta.			
Ho rispettato i tempi di consegna.			
Scrivi dove hai trovato difficoltà e perché.			
HO TROVATO DIFFICOLTÀ:			
PERCHÉ:			

ITALIANO

Nome dell'attività: Palloncini colorati.

Data 16/04/20

Leggi attentamente le domande e poi segna con una crocetta.			
	BENE	COSÌ COSÌ	POTEVA ANDARE MEGLIO
Ho svolto con facilità questa attività.			
Questa attività mi è piaciuta.			
Ho rispettato i tempi di consegna.			
Scrivi dove hai trovato difficoltà e perché.			
HO TROVATO DIFFICOLTÀ:			
PERCHÉ:			

Nome dell'attività: pag 47 di grammatica (aggettivi). **Data** 16/04/20

Leggi attentamente le domande e poi segna con una crocetta.			
	BENE	COSÌ COSÌ	POTEVA ANDARE MEGLIO
Ho svolto con facilità questa attività.			
Questa attività mi è piaciuta.			
Ho rispettato i tempi di consegna.			
Scrivi dove hai trovato difficoltà e perché. HO TROVATO DIFFICOLTÀ: PERCHÉ:			

Nome dell'attività: Al parco.

Data 16/04/20

Leggi attentamente le domande e poi segna con una crocetta.			
	BENE	COSÌ COSÌ	POTEVA ANDARE MEGLIO
Ho svolto con facilità questa attività.			
Questa attività mi è piaciuta.			
Ho rispettato i tempi di consegna.			
Scrivi dove hai trovato difficoltà e perché. HO TROVATO DIFFICOLTÀ: PERCHÉ:			