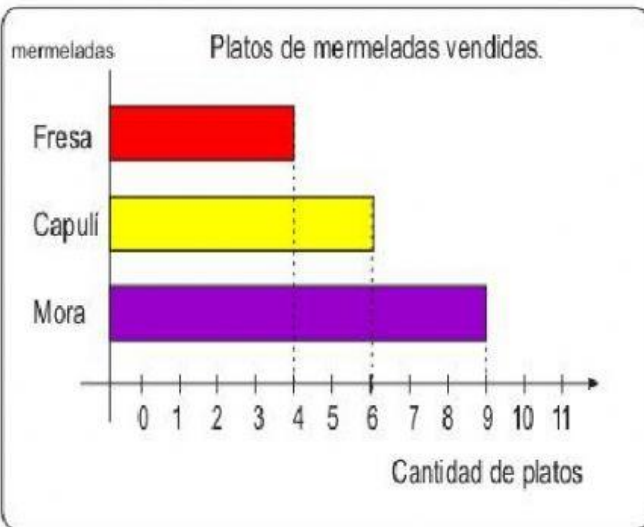


Observa el gráfico:



Ahora responde ¿cuántos platos de fresa y mora se vendieron en total?

- a) 10
- b) 13
- c) 15

Observa el tablero:

Decenas	Unidades
5	3

Ahora responde ¿Cuál vale lo mismo que el 5 del tablero?

- a) 5 unidades
- b) 53 unidades
- c) 50 unidades

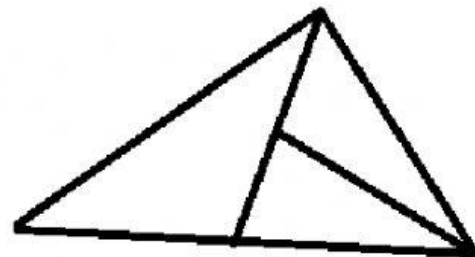
Manuel tenía en su tienda 22 latas de atún, luego vendió 9 latas de atún. ¿Cuántas latas tiene ahora?

- a) 31 latas de atún
- b) 13 latas de atún
- c) 12 latas de atún

Aurora tenía 56 🍎 en la mañana vendió 9 y en la tarde vendió 18. ¿Cuántas 🍎 le quedan?

- a) 27
- b) 29
- c) 45

5. ¿Cuántos triángulos hay?



- a) 3
- b) 4
- c) 6

6. Camila vende camisetas estampadas con personajes de películas animadas. Estas fueron las más vendidas:



¿De qué personaje vendió más camisetas Camila?

- a) Dory
- b) Minios
- c) Frozen

7. Pedro y Luis quieren juntar sus láminas de álbum de futbol:



Luis yo traje 235



Pedro yo traje 212

¿Cuántas láminas tienen en total?

- a) 435
- b) 235
- c) 447

8. En una floristería hay 68 rosas entre rojas y blancas. Si 28 son rosas blancas ¿Cuántas rosas rojas hay?

- a) 50
- b) 40
- c) 30

9. ¿Qué numero sigue en la secuencia de números?

31, 39, 47, 55, ____

- a) 55
- b) 68
- c) 63

10. ¿Qué números faltan en la secuencia de números?

234, ____ 236, ____ 238, ____, 240, ____.

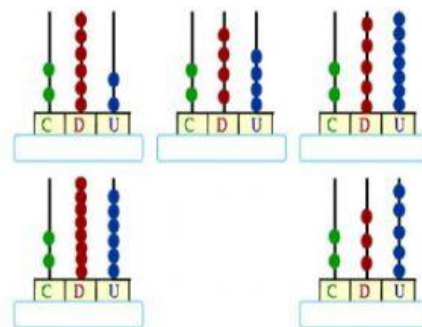
- a) 234, 235, 238, 241
- b) 235, 236, 239, 240
- c) 235, 237, 239, 241.

11. Escribe la propiedad que aplica cada adición.

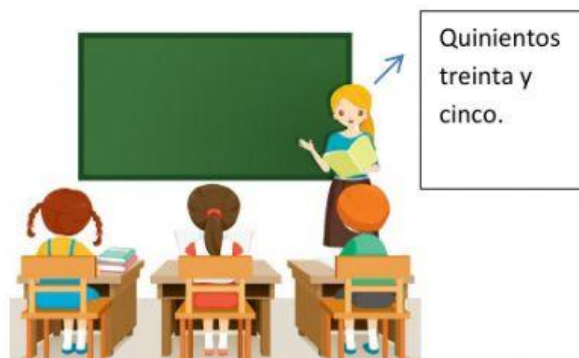
$231 + 0 = 231 =$ _____

$235 + 143 = 143 + 235 =$ _____

12. Escribe el número representado en cada ábaco.



13. La profesora dicta algunos números a sus estudiantes.



¿Qué número deben escribir ellos?

- a) 505
- b) 53
- c) 535

14. Dictado: _____
