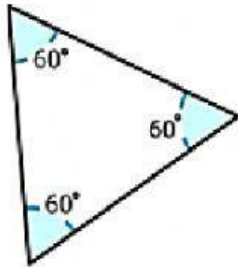
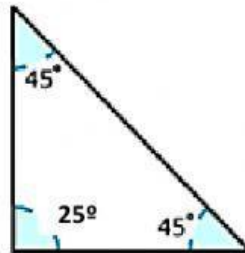


SUMA DE ÁNGULOS INTERNOS DE UN TRIÁNGULO

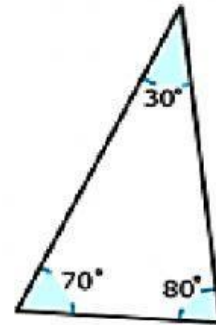
- 1- Marca el cuadro con una ☒ de los triángulos que tienen correctamente sus ángulos internos.



a.



b.



c.

- 2- Encuentra los ángulos internos que faltan en las siguientes figuras:

