

ESCOLA:

NOME COMPLETO:

NOME DA PROFESSORA:

DATA: / /

## Números Ordinais

"A Lebre se achando mais esperta que a tartaruga resolveu tirar uma soneca no meio do caminho. A Tartaruga a passou e chegou em primeiro lugar."

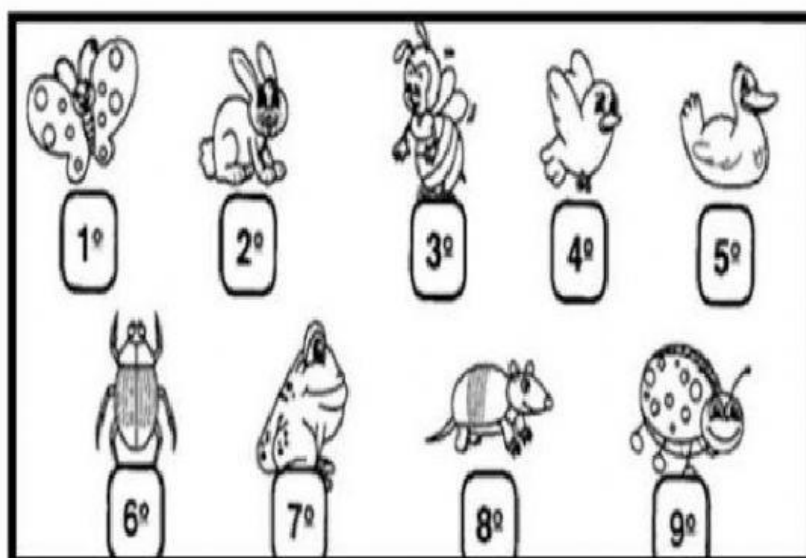
Para indicar ordem, posição ou lugar, usamos os números ordinais. Conheça alguns dos números ordinais:

1º - primeiro	11º - décimo primeiro
2º - segundo	12º - décimo segundo
3º - terceiro	13º - décimo terceiro
4º - quarto	14º - décimo quarto
5º - quinto	15º - décimo quinto
6º - sexto	16º - décimo sexto
7º - sétimo	17º - décimo sétimo
8º - oitavo	18º - décimo oitavo
9º - nono	19º - décimo nono
10º - décimo	20º - vigésimo

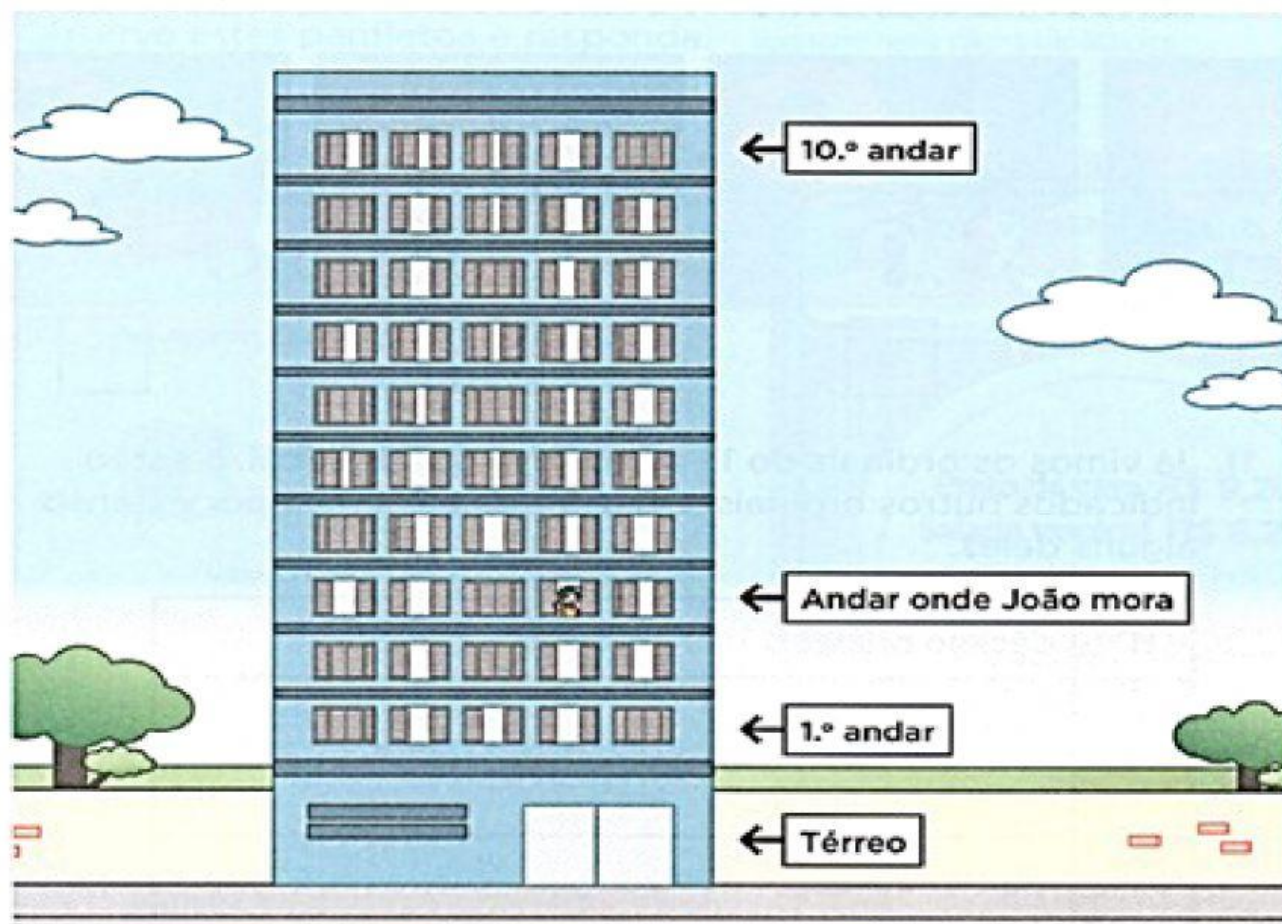


1. Uma outra corrida foi realizada entre alguns outros animais. Observe abaixo a colocação de cada um dele e registre ao lado as devidas colocações:

- a) a abelha ficou em \_\_\_\_\_ lugar.
- b) a borboleta ficou em \_\_\_\_\_ lugar.
- c) o pássaro ficou em \_\_\_\_\_ lugar.
- d) A joaninha ficou em \_\_\_\_\_ lugar.
- e) O besouro ficou em \_\_\_\_\_ lugar.
- f) O coelho ficou em \_\_\_\_\_ lugar.
- g) O sapo ficou em \_\_\_\_\_ lugar.
- h) O pato ficou em \_\_\_\_\_ lugar.
- i) O tatu ficou em \_\_\_\_\_ lugar.



João mora neste prédio aqui representado.




De acordo com as informações, complete o quadro com o ordinal que representa o andar do apartamento de João e de outros moradores desse prédio.

- João mora no terceiro andar.
- Carolina mora no último andar.
- Gilberto mora três andares abaixo de onde mora Carolina.
- Válter mora quatro andares acima do térreo.
- Fabiana mora no andar de cima do andar onde mora Válter.
- Davi mora no andar abaixo do andar onde mora João.
- Cíntia mora três andares abaixo de onde mora Válter.

Nome dos moradores	Andar do prédio
 João	
 Carolina	
 Gilberto	
 Válter	
 Fabiana	
 Davi	
 Cíntia	



Na cena, nove pessoas aguardam na fila para comprar ingresso para o cinema.



Veja o que aconteceu: uma pessoa "furou a fila!"



a. Que lugar passou a ocupar a pessoa que "furou a fila"?

b. Que lugar ela deveria ocupar, se chegou depois?

Veja a posição dos seis primeiros corredores de uma maratona.



Maratona é uma corrida a pé, de longo percurso.



a. Quem está em primeiro lugar?

b. Em que lugar está Marcos?

c. Qual corredor está entre o 2º e o 4º lugares?