

CLASIFICACIÓN DE TRIÁNGULOS POR SUS LADOS



*Clasificación
según
sus lados*

→ Tres lados iguales.

→ Equilátero

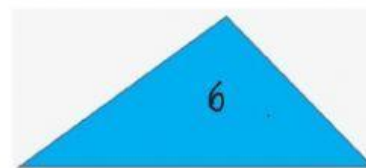

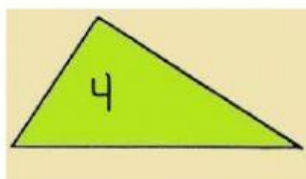
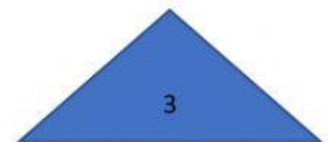
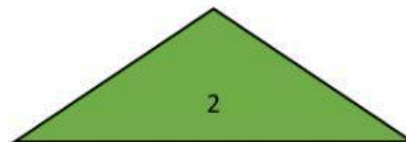
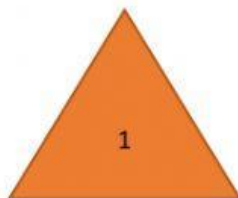
→ Dos lados iguales.

→ Isósceles

→ Tres lados desiguales.

→ Escaleno

1. Fíjate en los triángulos y marca con una X en la casilla correspondiente del cuadro:



Triángulo	1	2	3	4	5	6
Equilátero						
Isósceles						
Escaleno						

2. Elige el nombre del triángulo que se muestra.

