

REPASO MAYO II

1. Dictado de números.

							
<input type="text"/>	<input type="text"/>	<input type="text"/>	<input type="text"/>	<input type="text"/>	<input type="text"/>	<input type="text"/>	<input type="text"/>

2. Escribe los siguientes números.

33	<input type="text"/>	42	<input type="text"/>
58	<input type="text"/>	29	<input type="text"/>
67	<input type="text"/>	12	<input type="text"/>

3. Escribe los números anterior y posterior.

<input type="text"/>	54	<input type="text"/>	<input type="text"/>	79	<input type="text"/>
<input type="text"/>	87	<input type="text"/>	<input type="text"/>	90	<input type="text"/>

4. Realiza las siguientes operaciones.

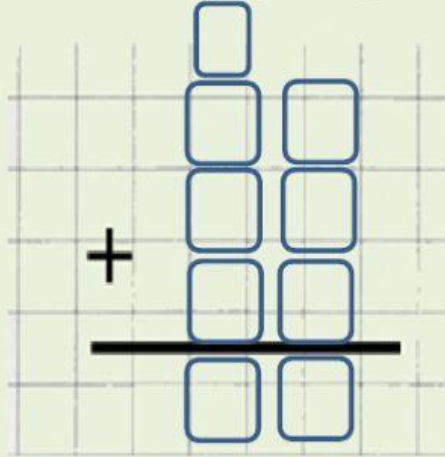
$58 + 33$

	<input type="text"/>	
	<input type="text"/>	<input type="text"/>
+	<input type="text"/>	<input type="text"/>
	<input type="text"/>	<input type="text"/>
	<input type="text"/>	<input type="text"/>

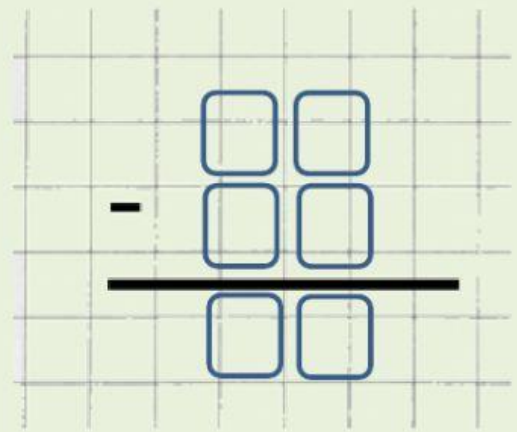
$47 + 28$

	<input type="text"/>	
	<input type="text"/>	<input type="text"/>
+	<input type="text"/>	<input type="text"/>
	<input type="text"/>	<input type="text"/>
	<input type="text"/>	<input type="text"/>

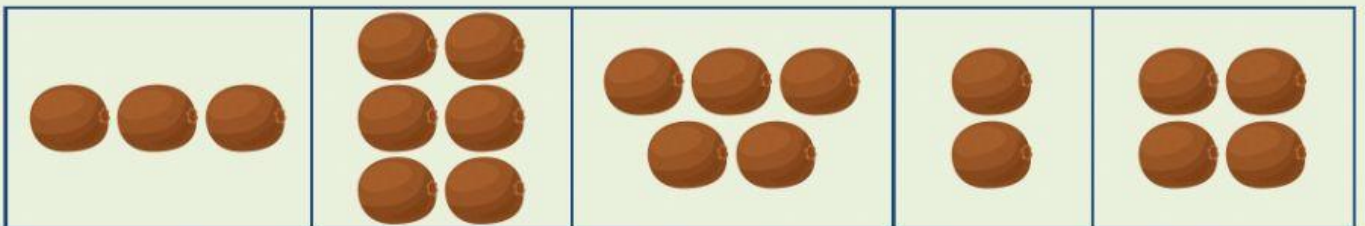

$$21 + 38 + 15$$



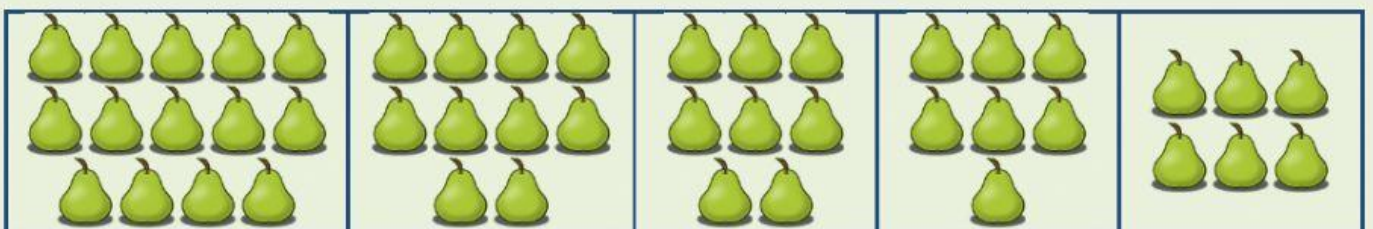
$$98 - 31$$



5. Encuentra el doble.



6. Localiza la mitad del modelo.



7. En un almacén hay 29 cajas de sandías y 15 de melones.
¿Cuántas cajas de sandías más que de melones hay?

Datos:

Sandías

Melones

Hay que averiguar...

El total La diferencia

Sumar Restar

Operación:

		<input type="text"/>
<input type="text"/>		<input type="text"/>
<hr/>		
		<input type="text"/>

Solución:

En el almacén hay cajas más de sandías que melones.

8. Observa y marca las opciones correctas.



- La pelota de baloncesto pesa más que la de tenis.
- La pelota de tenis pesa lo mismo que la manzana.
- La manzana pesa más que la pelota de baloncesto.
- La manzana pesa menos que la pelota de baloncesto.
- La pelota de tenis pesa más que la de baloncesto.
- La pelota de baloncesto pesa lo mismo que la de tenis.