


NOMBRE:

VAMOS A SEGUIR REPARTIENDO

REPARTÍ LA MISMA CANTIDAD PARA CADA NENE

MARCÁ LA RESPUESTA CORRECTA

- * 1. TENGO 10 GLOBOS Y QUIERO REPARTIRLOS ENTRE CARLOS, PABLO Y JUAN. ¿CUÁNTOS GLOBOS LE DOY A CADA NIÑO?



CADA UNO RECIBE


4

3

5

¿LE SOBRA ALGÚN GLOBO? SÍ ☐ NO ☐

- * 2. TENGO 6 GLOBOS Y QUIERO REPARTIRLOS ENTRE JUAN Y PABLO. ¿CUÁNTOS GLOBOS LE DOY A CADA UNO?



CADA UNO RECIBE

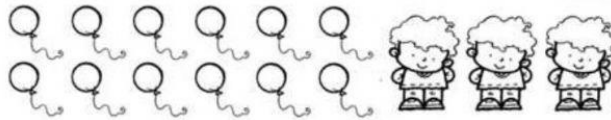
4

3

2

¿LE SOBRA ALGÚN GLOBO? SÍ ☐ NO ☐

- * 3. TENGO 12 GLOBOS Y QUIERO REPARTIRLOS ENTRE JUAN, MARCOS Y PEDRO. ¿CUÁNTOS GLOBOS LE DOY A CADA UNO?



CADA UNO RECIBE


4

3

5

¿LE SOBRA ALGÚN GLOBO? SÍ ☐ NO ☐

- * 4. TENGO 11 GLOBOS Y QUIERO REPARTIRLOS ENTRE FEDE Y DIEGO. ¿CUÁNTOS GLOBOS LE DOY A CADA UNO?



CADA UNO RECIBE

4

3

5

¿LE SOBRA ALGÚN GLOBO? SÍ ☐ NO ☐