

ESTUDANTE:

DATA:

TURMA:

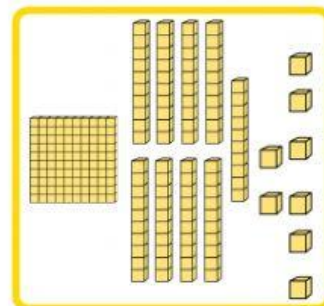
SOME AS CONTAS ABAIXO E ESCREVA OS RESULTADOS. APÓS, ARRASTE COM O DEDO OS RESULTADOS REPRESENTADO PELA QUANTIDADE NO MATERIAL DOURADO E TAMBÉM O RESULTADO REPRESENTADO NAS FICHAS ESCALONADAS.

$$\begin{array}{r} + 226 \\ 121 \\ \hline \end{array}$$

RESULTADO REPRESENTADO  
PELAS FICHAS ESCALONADAS



RESULTADO REPRESENTADO  
PELO MATERIAL DOURADO

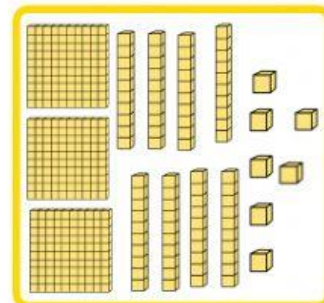
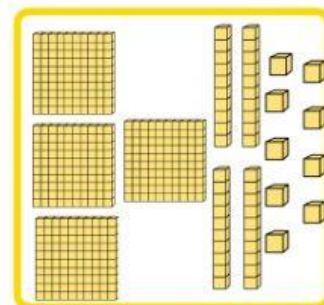


$$\begin{array}{r} + 236 \\ 213 \\ \hline \end{array}$$

RESULTADO REPRESENTADO  
PELAS FICHAS ESCALONADAS



RESULTADO REPRESENTADO  
PELO MATERIAL DOURADO



$$\begin{array}{r} + 177 \\ 21 \\ \hline \end{array}$$

RESULTADO REPRESENTADO  
PELAS FICHAS ESCALONADAS



RESULTADO REPRESENTADO  
PELO MATERIAL DOURADO

198

449

347

Professora  
Guilaine Pereira