







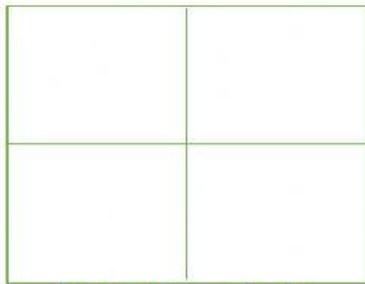


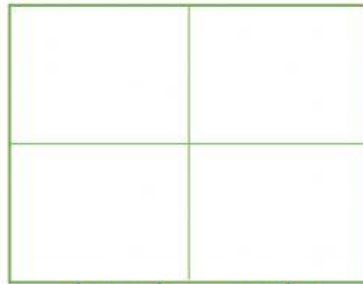
1. Elige la respuesta según la indicación.

	
Colorea el círculo que está a su izquierda.	Colorea el círculo que está a su derecha.
	
Colorea el círculo que está a su izquierda.	Colorea el círculo que está a su izquierda.
	
Colorea el círculo que está a su derecha.	Colorea el círculo que está a su izquierda.
	
Colorea el círculo que está a su derecha.	Colorea el círculo que está a su derecha.

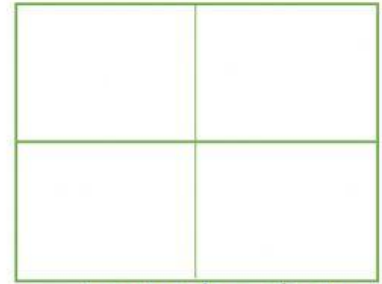
2.- ORDENA LOS CÍRCULOS SEGÚN LA INDICACIÓN.



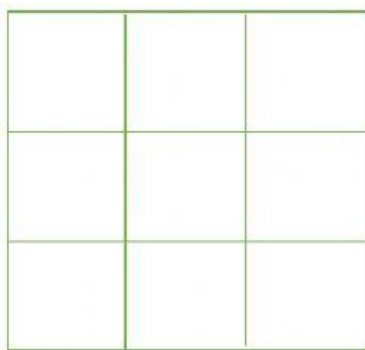
Derecha - abajo



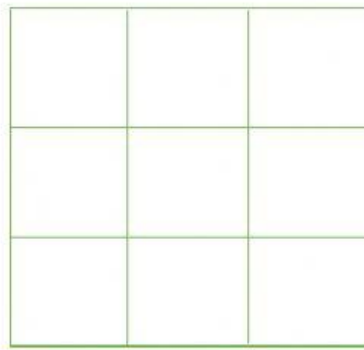
derecha - arriba



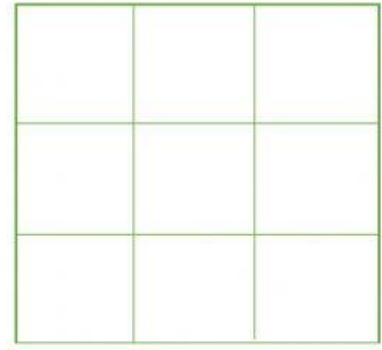
izquierda - abajo



Derecha - Abajo – centro




Centro o medio



Izquierda- arriba-centro

3. CUENTA Y ELIGE LA CANTIDAD CORRECTA.



34

22

32



26

27

28

4. COLOCA EL NÚMERO ANTERIOR Y POSTERIOR SEGÚN CORRESPONDA.

26

17

24

51

47

49

21

15

53

19

38

23

36

25

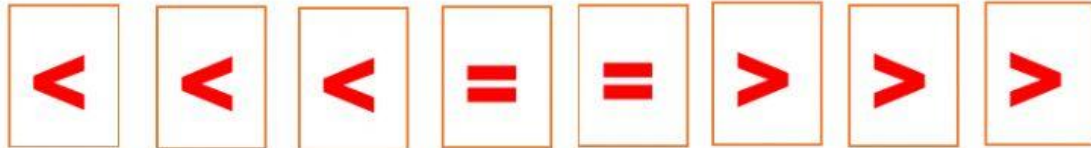
45

51

	25	
	16	
	52	
	24	

	20	
	37	
	46	
	50	

5. COLOCA LOS SIGNOS DE MAYOR MENOR O IGUAL.



25		52
----	--	----

33		17
----	--	----

45		44
----	--	----

16		26
----	--	----

59		58
----	--	----

28		30
----	--	----

6. RELACIONA.

a) Número formado por 3 decenas y 2 unidades.

20

b) Número formado por 2 decenas.

41

c) Número formado por 2 decenas y 8 unidades.

32

d) Número igual a 4 decenas y 1 unidad.

28

7. REALIZA LAS SIGUIENTES OPARACIONES.

$7 + 5 =$

$4 + 3 =$

$17 - 5 =$

$8 - 3 =$

$16 - 3 =$

8. COMPLETA LAS SERIACIONES.

