

LATIHAN SOAL MATEMATIKA KELAS 2
TEMA 5 (BERAT BENDA)





Namaku : _____

Kelas : _____

No Absen : _____

A. Jodohkan dengan menarik garis (Alat yang tepat untuk mengukur panjang benda)

| | |
|---|---|
| 1 |  |
| 2 |  |
| 3 |  |
| 4 |  |

| |
|--|
|  |
|  |
|  |
|  |

B. Jodohkan dengan menarik garis

| | |
|---|-----------------|
| 5 | 2 m |
| 6 | 400 cm + 300 cm |
| 7 | 5 m - 2 m |
| 8 | 400 cm |

| |
|--------|
| 7 m |
| 4m |
| 300 cm |
| 200 cm |

C. Isilah dengan tepat!

9. Beni mempunyai tali dengan panjang 500 cm, kemudian dipotong 1 m.

Panjang tali Beni sekarang adalah _____ cm

10. Panjang pita merah 2m. Panjang pita biru 200 cm.

Panjang pita merah dan biru jika digabung adalah _____ m