





Observa el ejemplo y resuelve.

Dibujo	¿Cuántos hay en total?	¿Cuántos grupos hay?	¿Cuántos hay en cada grupo?	Divisiones
	<p>Hay <u>16</u> lechitas en total.</p>	<p>Hay <u>2</u> grupos.</p>	<p>Hay <u>8</u> en cada grupo.</p>	<p>$16 \div 2 = 8$ $16 \div \underline{\quad} = 2$</p>
	<p>Hay <u> </u> carritos en total.</p>	<p>Hay <u> </u> grupos.</p>	<p>Hay <u> </u> en cada grupo.</p>	<p>$\underline{\quad} \div \underline{\quad} = 5$ $\underline{\quad} \div \underline{\quad} = 3$</p>
	<p>Hay <u> </u> crayolas en total.</p>	<p>Hay <u> </u> grupos.</p>	<p>Hay <u> </u> en cada grupo.</p>	<p>$\underline{\quad} \div \underline{\quad} = 8$ $\underline{\quad} \div \underline{\quad} = 4$</p>
	<p>Hay <u> </u> pelotas en total.</p>	<p>Hay <u> </u> grupos.</p>	<p>Hay <u> </u> en cada grupo.</p>	<p>$\underline{\quad} \div \underline{\quad} = 6$ $\underline{\quad} \div \underline{\quad} = 3$</p>

--	--	--	--	--