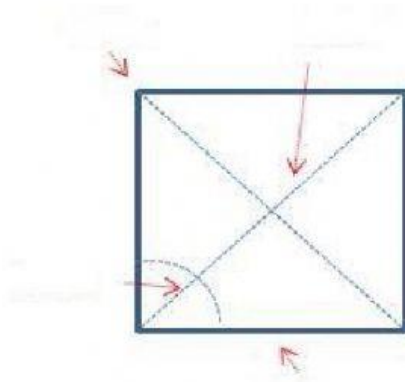


Clasificación de Cuadriláteros

1. Arrastra cada uno de los elementos del cuadrilátero en su lugar.



Ángulo

Diagonal

Vértice

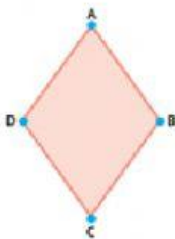
Lado

2. Une los puntos de cada cuadrilátero con los puntos de sus características y después con los puntos de sus nombres.



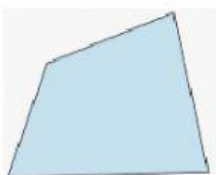
Todos sus lados tienen la misma medida y los ángulos consecutivos diferentes.

Trapezio



Sus cuatro lados son de diferente medida

Trapezoides



Dos de sus ángulos son rectos

Paralelogramo

Clasifica los cuadriláteros

