

LATIHAN SOAL MATEMATIKA KELAS 2
TEMA 6 (KD 3.6)

Namaku: _____

Kelas : _____

No absen: _____

A. Pilihlah jawaban yang paling tepat pada huruf a, b atau c

1. Berat telur berdasarkan gambar di samping adalah ...




- a. 1 kg
- b. 2 kg
- c. 11 kg




2. Timbangan pada gambar di samping digunakan untuk menimbang



- a. 
- b. 
- c. 

3. Biji timbangan yang menunjukkan berat semangka adalah ...



- a. 
- b. 
- c. 

4. Perkiraan berat semangkuk nasi pada gambar di samping adalah..



- a. 25 kg
- b. 250 gram
- c. 5 kg

B. Isilah titik-titik di bawah ini dengan benar!

5. Berat wortel pada gambar di samping adalah 1 kg.



1 kg = ... ons.

6. Berat ayam pada gambar di samping adalah 1 kg.



1 kg = ... gram.

C. Bandingkan berat benda di bawah ini dengan menuliskan salah satu tanda berikut:

- < jika lebih berat,
- > lebih ringan
- = jika sama berat

7		
8	 <p>25 ons</p>	 <p>2 kg</p>
9		
10	 <p>30 ons</p>	 <p>3 kg</p>