



## UNIDAD EDUCATIVA FISCAL "BAHÍA DE MANTA"

Dirección: Calle 115 entre Avenida 104-105 LOS ESTEROS - MANTA

- Teléfono: 052383-433 - Email: [colegiobahiademanta@hotmail.com](mailto:colegiobahiademanta@hotmail.com)

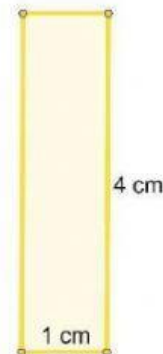
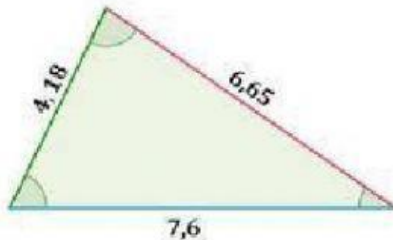
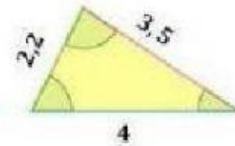
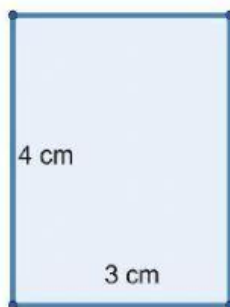
MANTA - MANABÍ - ECUADOR

Código AMIE: 13H02164

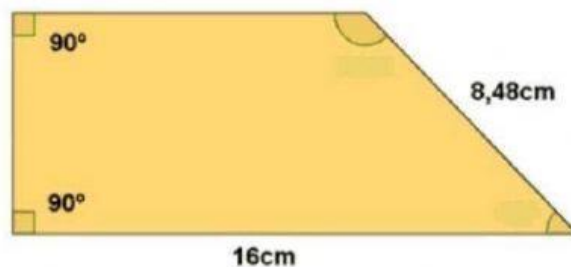
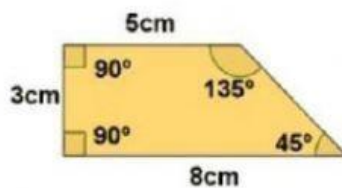


Ministerio  
de Educación

### 1. Une con líneas cada figura con su semejante



### 2. Las siguientes figuras son semejantes, ¿cuál es el valor de las partes que faltan por conocer?





## UNIDAD EDUCATIVA FISCAL "BAHIA DE MANTA"

Dirección: Calle 115 entre Avenida 104-105 LOS ESTEROS - MANTA

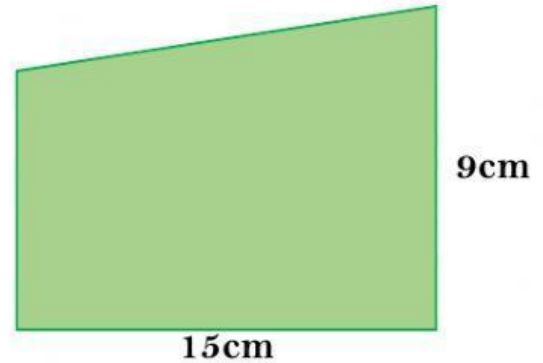
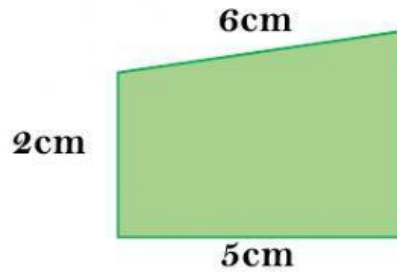
- Teléfono: 052383-433 - Email: [colegiobahiademanta@hotmail.com](mailto:colegiobahiademanta@hotmail.com)

MANTA - MANABI - ECUADOR

Código AMIE: 13H02164



Ministerio  
de Educación



3. Seleccione las casillas que indican las características que debe tener dos figuras semejantes

Misma forma

Distinto ángulo

Medidas Proporcionales

Distinta forma

Mismo ángulo

Medidas No Proporcionales