



Tareas de diagnóstico de Matemática

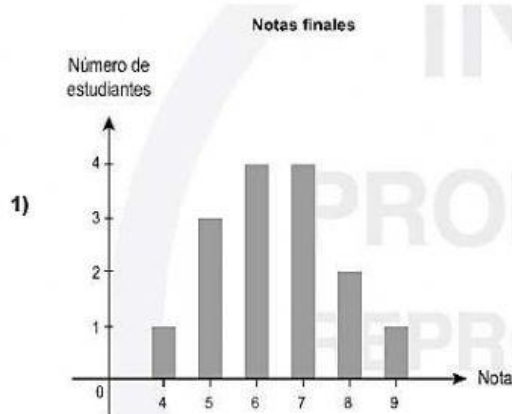
ACTIVIDAD # 5



13.- Se requiere hacer un informe sobre las notas finales obtenidas por los estudiantes de un curso, las cuales se representan en la tabla:

Notas	5	6	7	5	6	5	4	7	8	9	6	5	7	8	7
-------	---	---	---	---	---	---	---	---	---	---	---	---	---	---	---

Con base en la información dada ¿Cuál es el diagrama a presentar?



14.- Encuentra la media aritmética de cada grupo de datos

a) 67, 89, 90, 75, 50, 60, 54, 65, 64

$$\bar{x} =$$

b) 556, 57, 59, 60, 56, 57, 60

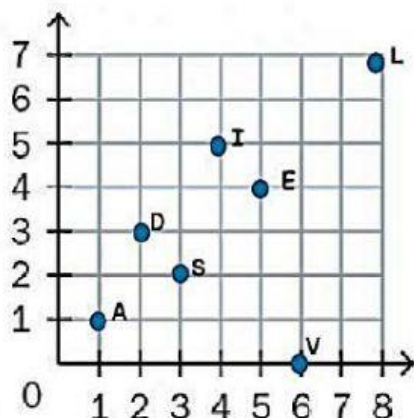
$$\bar{x} =$$

15.- Encuentra la frecuencia absoluta y la media de cada grupo de datos

12	13	13	15	16	13	12	14	13	14	14	15
15	16	13	14	12	14	15	15	14	13	12	12

Edad de los alumnos que entrenan fútbol	Frecuencia absoluta	Media aritmética
12		$\bar{x} =$
13		
14		
15		
16		
Total		

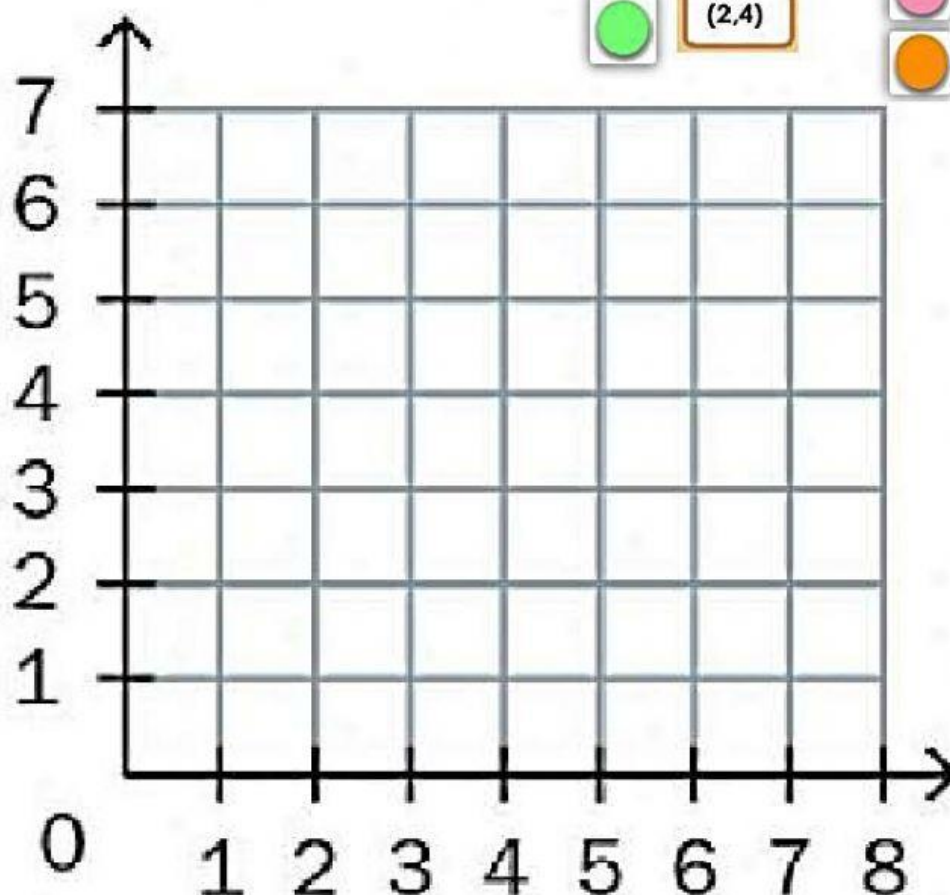
16.-Escribe sobre cada ordenado de la tabla la letra que le corresponde. Luego escribe la palabra que se forma.



<input type="text"/>	<input type="text"/>	<input type="text"/>	<input type="text"/>
(6,0)	(4,5)	(2,3)	(1,1)

La palabra secreta es:

17.- Arrastra cada esfera de color a la coordenada que corresponde y descubre la figura oculta.



(3,1)

(2,2)

(2,4)

(3,5)

(5,5)

(6,4)

(6,2)

(5,1)