

ESCOLA CLASSE 08 DE BRAZLÂNDIA

ALUNO(A): _____

DATA: ____/____/____

ATIVIDADE

1- CIRCULE AS VOGAIS DOS NOMES DOS MEIOS DE COMUNICAÇÃO:

	TELEFONE
---	----------

	LIVRO
--	-------

	CARTA
---	-------


	CELULAR
---	---------

	RÁDIO
---	-------

	COMPUTADOR
---	------------

	<h1 style="margin: 0;">REVISTAS</h1>
---	--------------------------------------

2- COMPLETE OS DESENHOS ATÉ COMPLETAREM AS QUANTIDADES PEDIDAS:



	8
---	---



	10
---	----

	15
---	----



	12
---	----



3 REPRESENTE AS QUANTIDADES COM DESENHOS E DEPOIS FAÇA AS ADIÇÕES:



		
+		

		
+		

		
+		

		
+		

		
+		

		
+		

