

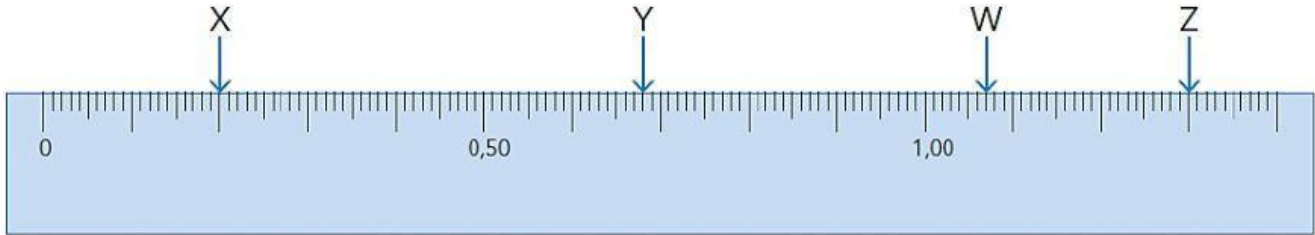


## Tema: Números decimales en la semirrecta numérica

NOMBRE: \_\_\_\_\_

FECHA: \_\_\_\_\_

1. Escribe los números representados por letras en la semirrecta numérica.



W =

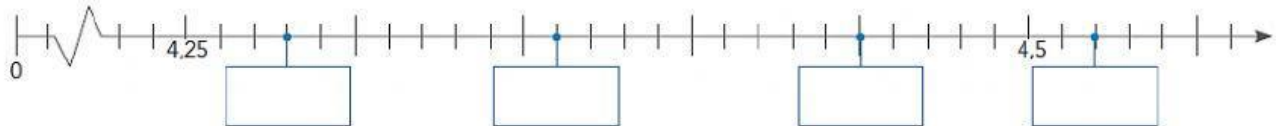
X =

Y =

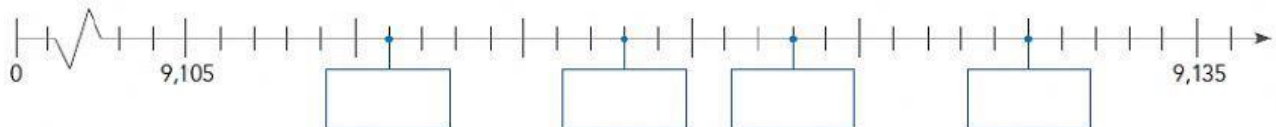
Z =

2. Ubica los siguientes números en la semirrecta numérica.

a.



b.



3. Completa con los términos faltantes la semirrecta numérica.

