



GUÍA DE MATEMÁTICA

1º BÁSICO

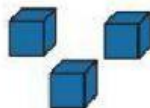
OA 9: Demostrar que comprenden la adición y la sustracción de números del 0 al 20 progresivamente, de 0 a 5, de 6 a 10, de 11 a 20 con dos sumandos:

LA SUMA

1. OBSERVEMOS Y RESOLVAMOS JUNTOS

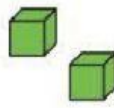
CONOZCO

Cuando juntas colecciones:



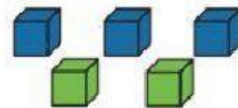
3

y



2

son



5

+
(más)

=
(igual a)

Observa y completa.

a.



Prohibida su comercialización

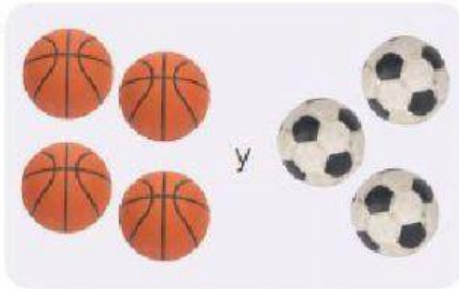


[] y [] son []




Completa.

a.



$$\square + \square = \square$$

b.



$$\square + \square = \square$$

c.



$$\square + \square = \square$$

d.




$$\square + \square = \square$$

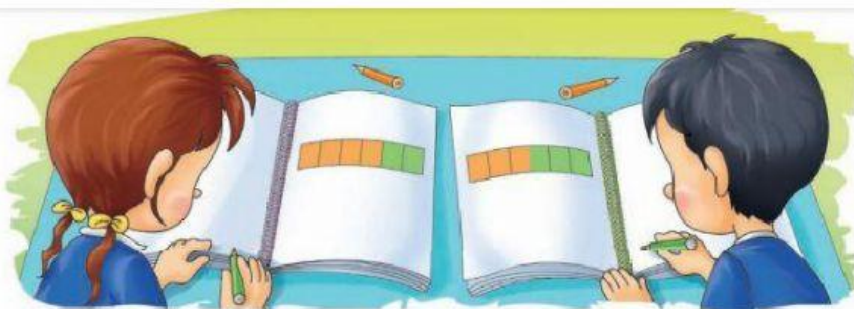
Representa y completa.



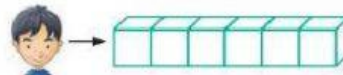
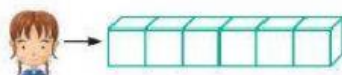
En el estuche tengo 4
lápices azules y
4 lápices rojos.



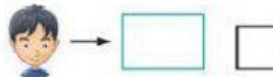
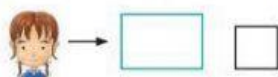
$$\square + \square = \square$$



a. Pinta los cubos de acuerdo a la representación de cada personaje.



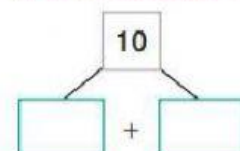

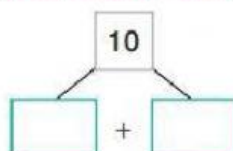

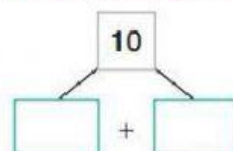

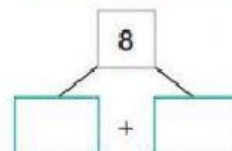

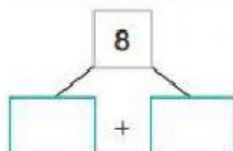

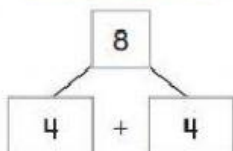

b. ¿Cuántos ☐ pintó cada personaje?



c. ¿Cuántos ☐ de cada color pintó cada personaje?



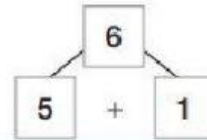
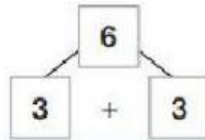
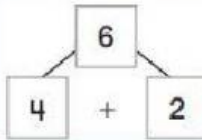
Con dos colores pinta las cuadrículas de tres formas diferentes y completa siguiendo el ejemplo.



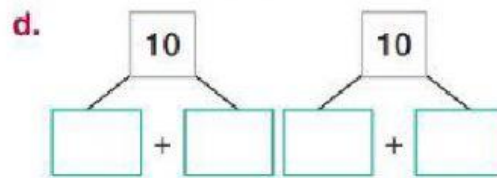
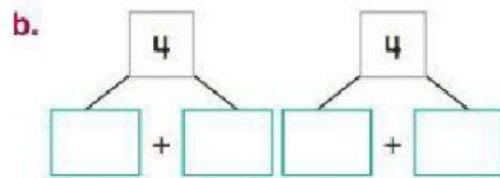
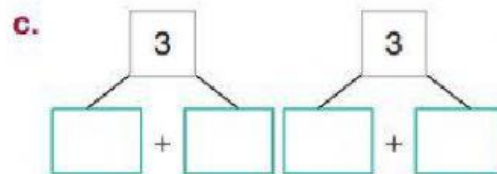
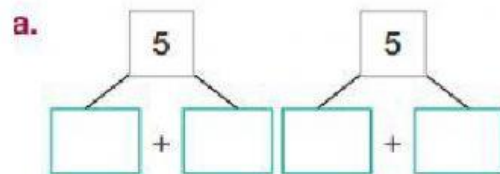


CONOZCO

Todos los números se pueden escribir como una adición, a la que llamamos **descomposición**.



Escribe dos descomposiciones para cada número.



2. OBSERVEMOS JUNTOS EL SIGUIENTE VIDEO



3. RESOLVAMOS


$$\begin{array}{r} 12 \\ + \underline{3} \end{array}$$

4. RESOLVAMOS

Lee la situación. Luego, resuelve representando con barras.

Algunos países sudamericanos como Argentina, Brasil, Colombia y Venezuela, obtuvieron medallas en los juegos Olímpicos 2012. Brasil fue el país sudamericano que más medallas obtuvo.

MEDALLAS QUE GANÓ BRASIL	
Medallas de plata	Medallas de bronce
	

- a.** ¿Cuántas medallas de plata y bronce ganó ?

1° Represento:

[illegible]