 Manahej	Département de Sciences	Évaluation 4: Les besoins d'une plante.
	Nom:	
	EB 1 (Note:10)	

### Exercice 1:

**Observe** le document 1 puis **réponds** aux questions suivantes.



**Document 1: Yara et Marwan plantent une fleur.**

#### **A. Choisis la bonne réponse. (1pt)**

- Que font Yara et Marwan ?

- ☐ Yara et Marwan **jouent** au ballon.
- ☐ Yara et Marwan **plantent** une fleur.
- ☐ Yara et Marwan **mangent**.


B. Glisse chaque mot au bon endroit. (3pts)

La terre

L'eau

L'air

Le soleil



## Exercice 2 :

**A. Observe** le document 2 puis **choisis** les besoins de la plante représentés dans chaque figure. **(3pts)**




Figure A

L'air	L'eau	Le soleil	La terre
<input checked="" type="checkbox"/>	<input type="checkbox"/>	<input type="checkbox"/>	<input type="checkbox"/>




Figure B

L'air	L'eau	Le soleil	La terre
<input checked="" type="checkbox"/>	<input checked="" type="checkbox"/>	<input type="checkbox"/>	<input type="checkbox"/>

**B. Indique** le(s) besoin(s) de la plante qui manque(nt) dans chaque cas. **(3pts)**

L'eau

La terre

Le soleil

- La figure A :

- La figure B :