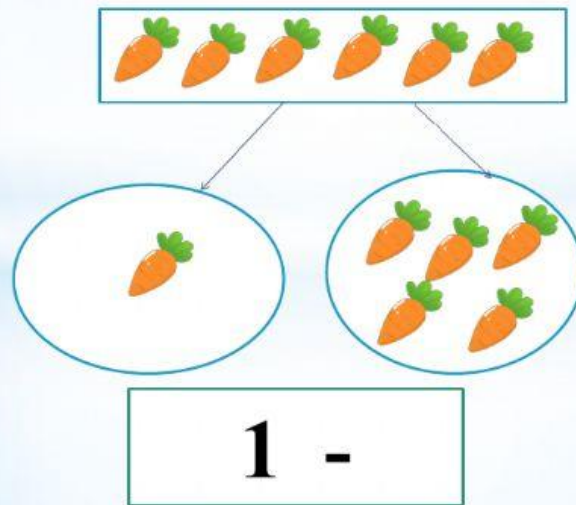
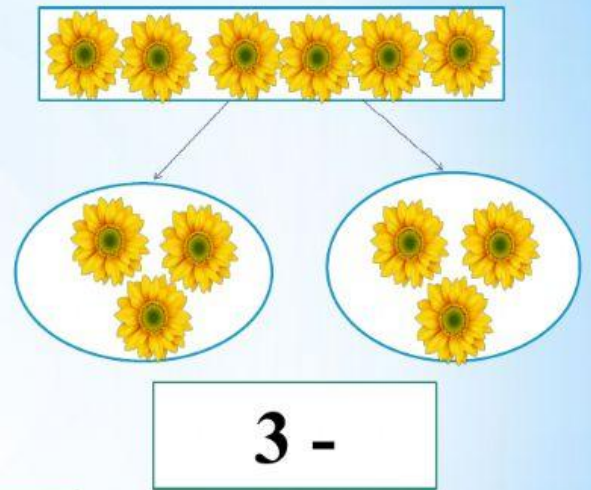
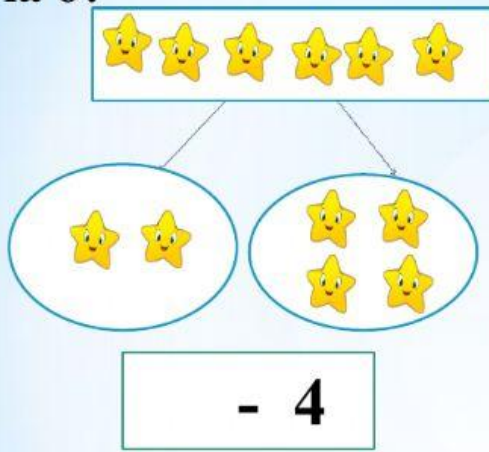


Làm quen với toán: Tách gộp nhóm đối tượng có số lượng là 6



Câu 1: Con hãy điền số thích hợp vào ô chia tách các nhóm có số lượng là 6?



Câu 2: Có mấy cách tách nhóm đối tượng có số lượng là 6?

1

4

3

2

Câu 3: Bé hãy chọn cách tách nhóm đối tượng có số lượng là 6?

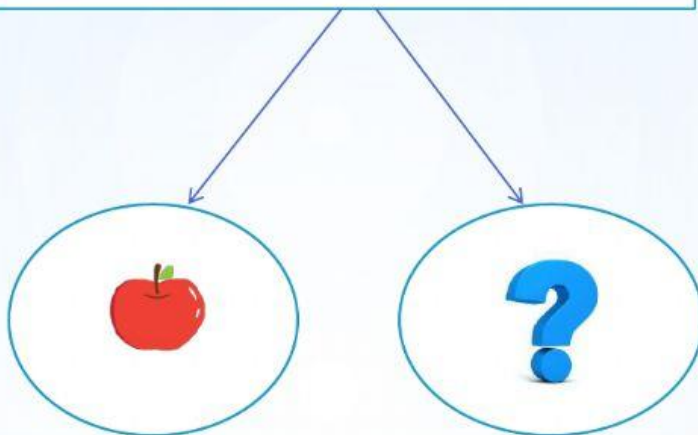

$$1 - 5$$

$$2 - 4$$

$$2 - 2$$

$$3 - 3$$

Câu 4: Cô có 6 quả táo, cô cho bạn Bông 1 quả. Hỏi cô còn mấy quả táo?




6

3

5

2

Câu 5: Trên cây có 6 quả cam, gió thổi mạnh quá làm 3 quả cam bị rụng xuống dưới đất. Hỏi ở trên cây còn mấy quả cam?




2

7

3

5

Câu 6: Có 6 bạn bướm rủ nhau đi chơi và đậu ở trên cây, bỗng nhiên có 3 con bướm bay đi. Hỏi ở trên cây còn bao nhiêu bạn bướm?



5

4

3

Câu 7: Trong chuồng có 6 bạn thỏ, cô thả 2 bạn thỏ đi chơi. Hỏi trong chuồng còn bao nhiêu bạn thỏ?



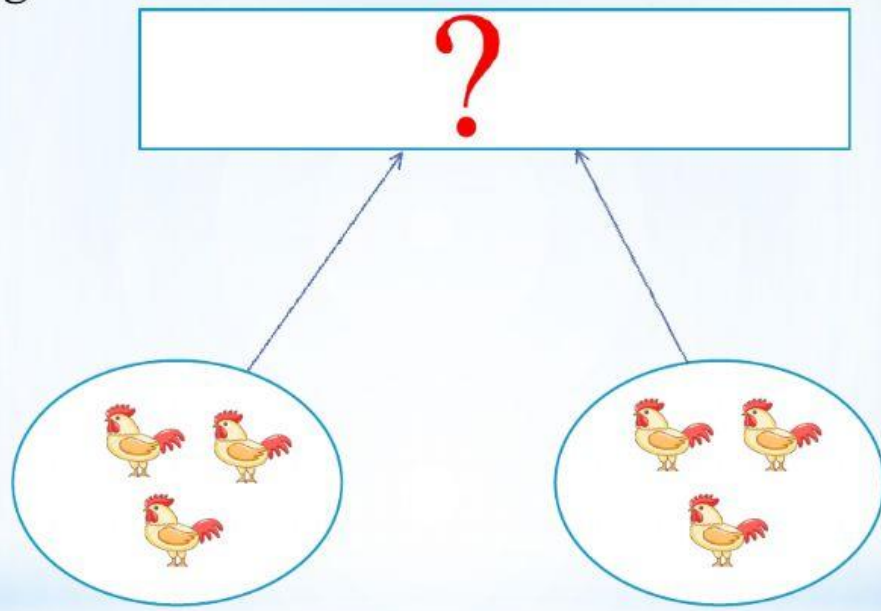
3

7

4

2

Câu 8: Có 3 chú gà nhanh chân chạy về chuồng trước, đến tối có 3 chú gà chậm hơn chạy về chuồng sau. Hỏi trong chuồng có tổng bao nhiêu chú gà?



6

3

7

2