




Encontrar la medida de el triángulo morado, el cuadrado naranjo y el rectángulo verde.

	P=	cm	A=	cm ²
	P=	cm	A=	cm ²
	P=	cm	A=	cm ²

El perímetro total del la casa es de: cm

El área total de la casa es de : cm²