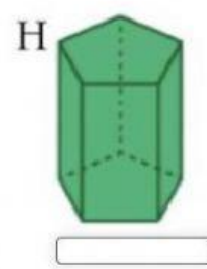
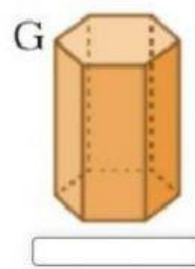
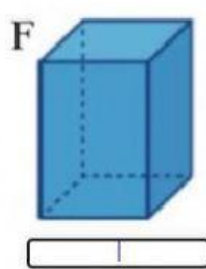
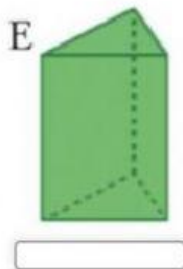
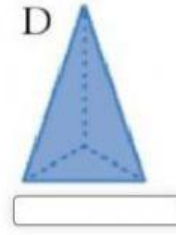
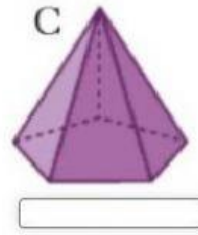
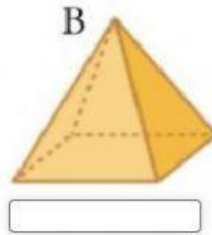
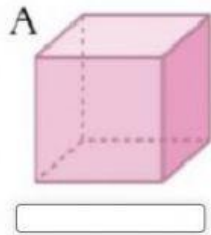


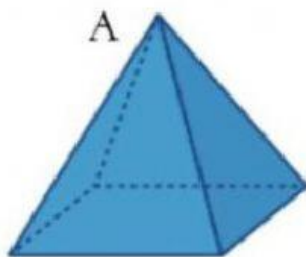
Los Poliedros: Prismas y Pirámides

1 Indica el nombre de estos poliedros indicando si son prismas o pirámides y teniendo en cuenta el polígono de sus bases

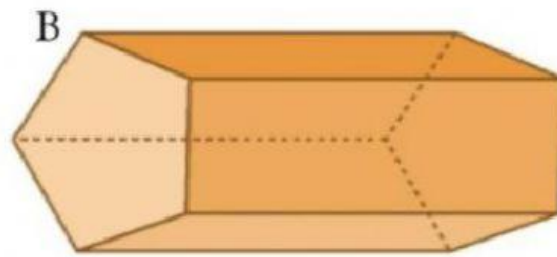
(Ej. Pirámide Cuadrangular, Prisma Cubo, Prisma Hexagonal...)



2 Indica cuántas caras, vértices y aristas tienen estos poliedros. Después nómbralos siguiendo las mismas instrucciones del ejercicio 1. Por último dibújalos en tu cuaderno y señala de azul los vértices y de verde las aristas. NO OLVIDES UTILIZAR LA REGLA AL REALIZAR LOS DIBUJOS.



Caras
 Vértices
 Aristas
 Nombre



Caras
 Vértices
 Aristas
 Nombre