

## ATIVIDADE SALA DE RECURSO

prof. Sandra

1 – Veja os produtos abaixo e marque V para verdadeiro e F para falso:



<b>Queijo</b>	<b>Menina</b>	<b>Leite</b>	<b>Tecido</b>
---------------	---------------	--------------	---------------

Fonte das imagens: <<https://www.freepik.com>>. Acesso em: 26 de março de 2021.

( ) para medir a menina usamos o quilômetro.

( ) o queijo é vendido no quilo.


( ) o tecido é vendido no metro.

( ) o leite é vendido no metro.

Disponível em: <<http://be.edredid.com/content/activity.cfm?id=216334>>. Acesso em: 26 de março de 2021.

2 – O Pedro, a Helena, a Bia e o Luca são amigos. Eles estão conversando. Preste atenção na conversa deles e arraste o peso certo para cada um:


TENHO 9 ANOS  
PESO 30KG.



PEDRO

35KG


TENHO 8 ANOS E PESO  
3 KILOS A MENOS QUE  
BIA.



HELENA

15KG


TENHO 10 ANOS E  
PESO 5 KG A MAIS  
QUE PEDRO.



BIA

30KG

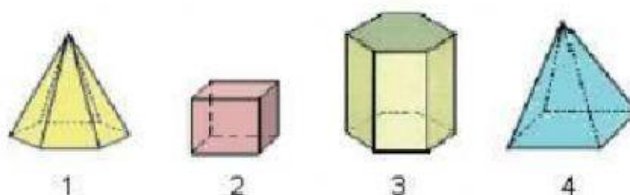
TENHO 7 ANOS E PESO A  
METADE DO PESO DE  
PEDRO.



LUCA

32KG

3 –Observe as figuras abaixo e marque a resposta correta:



• As figuras que têm a forma de pirâmide são:

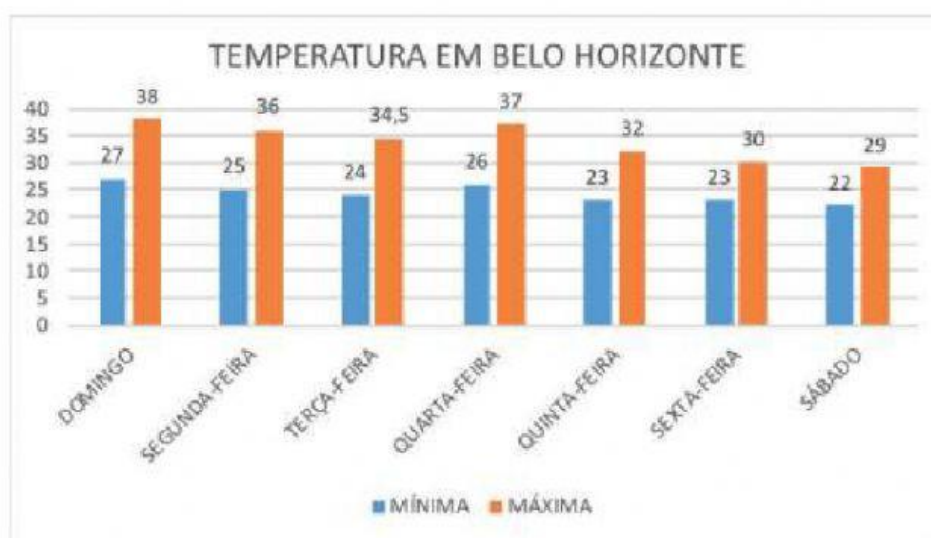
A) 1 e 3

B) 1 e 4

C) 2 e 3

D) 2 e 4

4– O gráfico abaixo mostra como foi a temperatura do verão em Belo Horizonte, durante uma semana. Observe e responda:



NO DOMINGO A TEMPERATURA FOI DE \_\_\_\_\_ A MÁXIMA

O DIA DA SEMANA MAIS FRIO FOI \_\_\_\_\_

ESSE GRÁFICO MOSTRA A TEMPERATURA DE QUE CIDADE? \_\_\_\_\_