

Aritmatika Sosial

Bacaan berikut untuk menjawab no 1,2, dan 3

Dampak Pembatasan Sosial Berskala Besar (PSBB)

Untuk menekan penyebaran *Covid-19* sebagian daerah memberlakukan Pembatasan Sosial Berskala Besar (PSBB). Dampak dari pemberlakuan PSBB ini dirasakan seluruh masyarakat, salah satunya Pak Pardi, seorang penjual makanan. Penghasilan Pak Pardi selama PSBB setiap hari tidak stabil, kadang naik kadang turun. Penghasilan Pak Pardi dari penjualan makanan selama seminggu disajikan dalam tabel berikut.

Hari	Hasil Penjualan (Rupiah)
Senin	185.000
Selasa	240.000
Rabu	190.000
Kamis	245.000
Jumat	250.000
Sabtu	180.000
Minggu	255.000

1. Jika modal Pak Pardi setiap hari Rp 200.000,00, maka berilah tanda centang pada kolom sesuai kondisi yang dialami !

hari	untung	Rugi
senin		
selasa		
Rabu		
kamis		
Jumat		
sabtu		
minggu		

2. Jika modal Pak Pardi setiap hari Rp 200.000,00, tentukan presentase untung/rugi yang sesuai dengan cara menarik garis dari kolom hari ke kolom presentase untung/rugi !

Hari	% Untung / Rugi
SENIN	20%
SELASA	22,5%
RABU	25%
KAMIS	27,5%
JUMAT	10%
SABTU	7,5%
MINGGU	5%

3. Jika modal Pak Pardi setiap hari Rp 200.000,00, urutkan keuntungan dari yang terbesar ke yang terkecil, dengan cara geser dan lepas diatas garis yang tersedia!

← ☆ ————— ☆ ————— ☆ ————— ☆ →

MINGGU

SELASA










RABU

KAMIS

JUMAT

SABTU

Jika saya adalah pedagang

Barang	Pertanyaan dan Jawaban
<p>Sepeda</p>  <p>Beli Rp 750.000,00 Biaya Perbaikan Rp 450.000,00 Jual Rp 1.800.000,00</p>	<p>a. Untung / Rugi ?</p>  <p>b. Berapa besaran untung / rugi nya ?</p>  <p>c. Berapa presentase untung / rugi nya ?</p> 
<p>Motor</p>  <p><small>shutterstock.com • 99325346</small></p> <p>Beli Rp 10.000.000,00 Untung 25%</p>	<p>a. Berapa rupiah keuntungannya ?</p>  <p>b. Berapa harga jualnya nya ?</p> 
<p>Televisi</p>  <p>Jual Rp 4.320.000,00 Rugi Rp 1.080.000,00</p>	<p>a. Berapa harga belinya ?</p>  <p>b. Berapa presentase kerugiannya ?</p> 