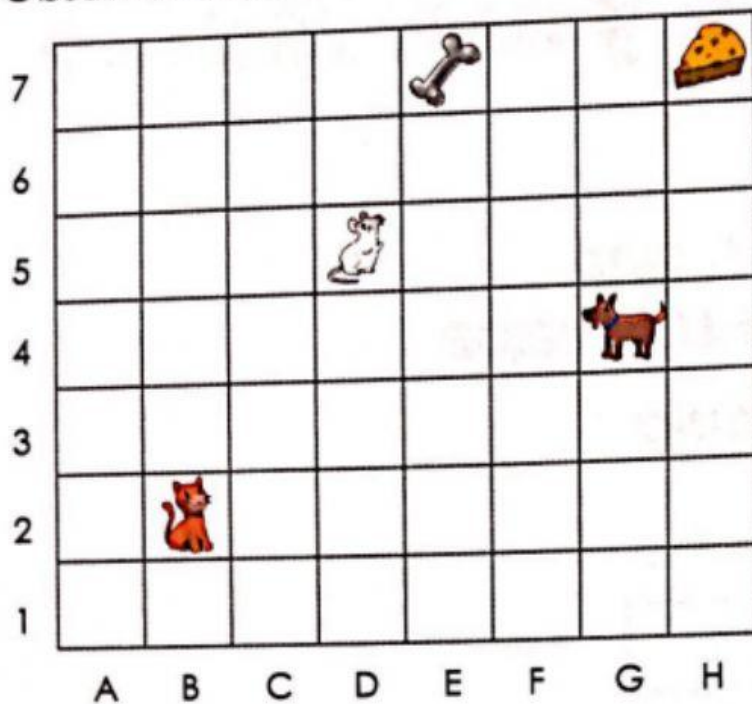


# Ubicación en una cuadrícula



1. Observa la cuadrícula. Completa.



a) ¿Cuál es la ubicación del ? \_\_\_\_\_



b) ¿Cuál es la ubicación del ? \_\_\_\_\_

c) ¿Cuál es la ubicación del ? \_\_\_\_\_

d) ¿Cómo llega el  al ?

Se mueve a la derecha \_\_\_\_\_ pasos,

luego se mueve \_\_\_\_\_ pasos.

e) ¿Cómo llega el  al ?

Se mueve \_\_\_\_\_ pasos,

luego se mueve \_\_\_\_\_ pasos.