



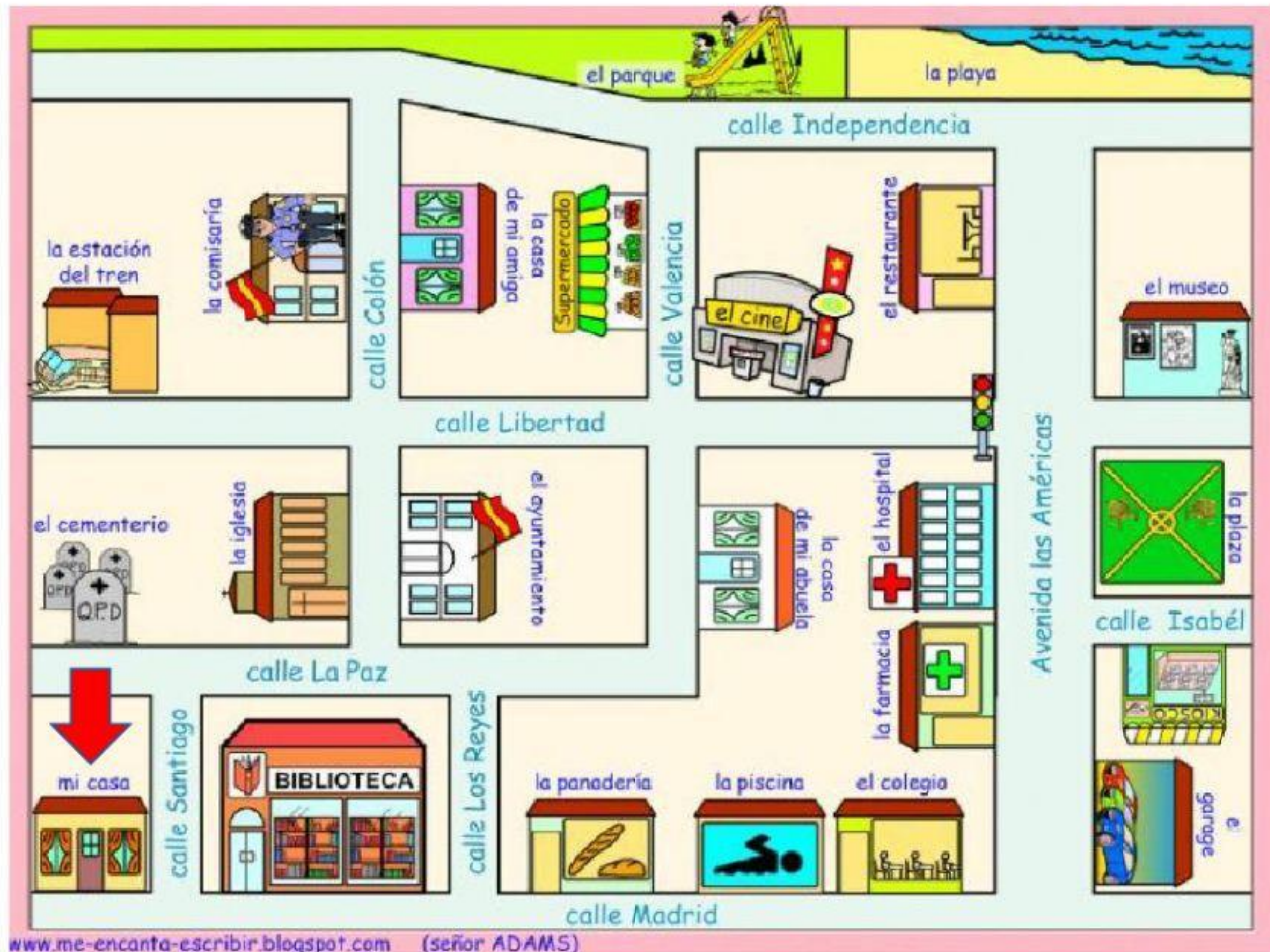
E.M. Rachide da Glória Salin Saker

Prof.: Flávia Paixão

Nombre:

Clase:

1. OBSERVA O MAPA E DIGA ONDE A PESSOA CHEGARÁ SE SAIR DA SUA CASA E SEGUIR AS ORIENTAÇÕES DADAS.



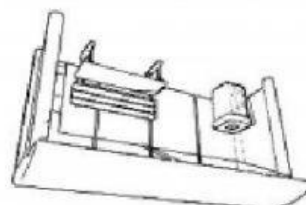
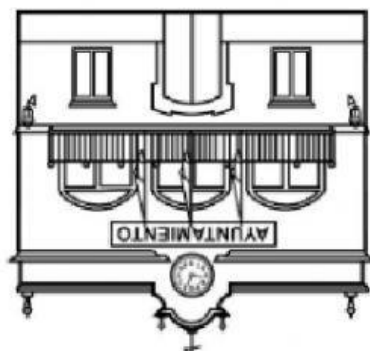
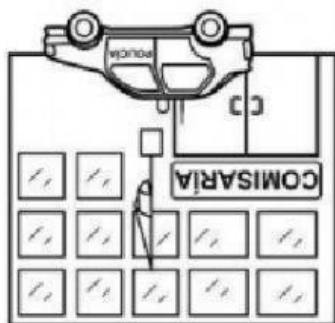
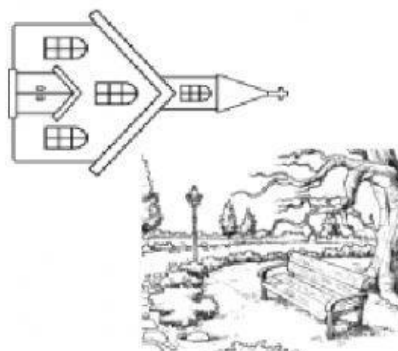

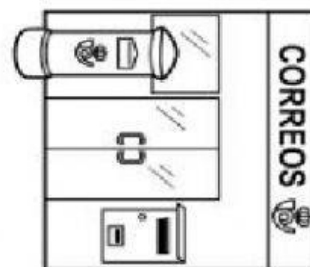

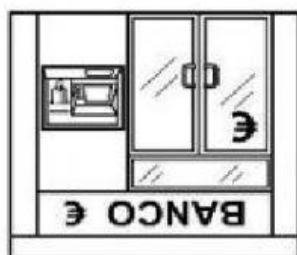
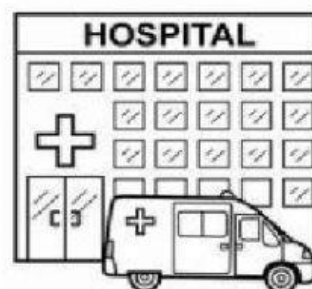

A) SEGUIR LA CALLE MADRID, GIRAR A LA IZQUIERDA, CAMINA 3 CUADRAS Y LLEGARÁ AL _____.

B) SEGUIR LA CALLE MADRID, DOBLAR A LA IZQUIERDA EN LA CALLE LOS REYES, DOBLAR A LA DERECHA EN LA CALLE LA PAZ GIRAR A LA IZQUIERDA EN LA CALLE VALENCIA, CRUZA LA CALLE Y LLEGARÁ AL _____ QUE ESTÁ ENFRETE AL SUPERMERCADO.

C) IR TODO RECTO EM LA CALLE MADRID, GIRAR EN LA TERCERA IZQUIERDA, SEGUIR RECTO HASTA EL FIN. AHÍ ESTARÁ LA _____ AL LADO DEL PARQUE.

D) ENTRAR EN LA PRIMERA IZQUIERDA, OTRA VEZ A LA IZQUIERDA Y LLEGARÁ AL _____ QUE ESTÁ DETRÁS DE LA IGLESIA.

2. MIRA EL MAPA Y MARCA SÍ O NO:



A) EL AYUNTAMIENTO ESTÁ ENTRE LA PARADA Y EL HOSPITAL.

(SÍ) (NO)

B) EL MUSEO ESTÁ AL LADO DEL SUPERMERCADO.

(SÍ) (NO)

C) EL COLEGIO ESTÁ ENFRETE DE LA COMISARÍA.

(SÍ) (NO)

D) LA BIBLIOTECA ESTÁ AL LADO DEL BANCO.

(SÍ) (NO)

E) EL APARCAMIENTO ESTÁ ENTRE EL PARQUE Y EL HOSPITAL.

(SÍ) (NO)