




Los Decimales: Su otro yo, las fracciones

Nombre y Apellidos:

Día:


Ejercicios

Determine la fracción decimal en sus dos representaciones y escriba como se lee.



Se lee:

$$\frac{\begin{array}{|c|} \hline \cdot \cdot \cdot \cdot \cdot \\ \hline \cdot \cdot \cdot \cdot \cdot \\ \hline \end{array}}{\begin{array}{|c|} \hline \cdot \cdot \cdot \cdot \cdot \\ \hline \cdot \cdot \cdot \cdot \cdot \\ \hline \end{array}} =$$




Se lee

$$\frac{\begin{array}{|c|} \hline \cdot \cdot \cdot \cdot \cdot \\ \hline \cdot \cdot \cdot \cdot \cdot \\ \hline \end{array}}{\begin{array}{|c|} \hline \cdot \cdot \cdot \cdot \cdot \\ \hline \cdot \cdot \cdot \cdot \cdot \\ \hline \end{array}} =$$




Colegio "Lawrence Kohlberg"

Para niños de Inteligencia Normal con dificultades de aprendizaje

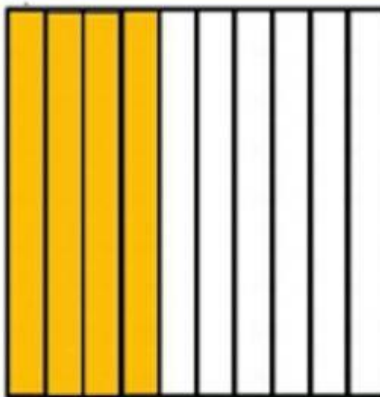


Se lee

$$\frac{\begin{array}{|c|} \hline \cdot \\ \cdot \\ \cdot \\ \hline \end{array}}{\begin{array}{|c|} \hline \cdot \\ \cdot \\ \cdot \\ \hline \end{array}} =$$



Se lee:



Se lee:

$$\frac{\begin{array}{|c|} \hline \cdot \\ \cdot \\ \cdot \\ \hline \end{array}}{\begin{array}{|c|} \hline \cdot \\ \cdot \\ \cdot \\ \hline \end{array}} =$$