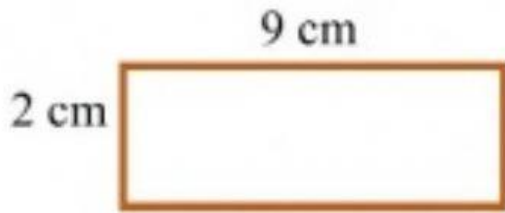


## حساب المحيط

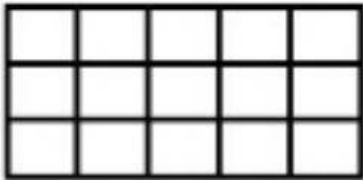
أوجد محيط الأشكال التالية:




$$P = \boxed{\phantom{000}} \text{ cm}$$



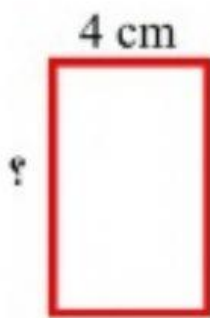
$$P = \boxed{\phantom{000}} \text{ cm}$$



$$P = \boxed{\phantom{000}} \text{ وحدة}$$



$$P = \boxed{\phantom{000}} \text{ وحدة}$$



$$P = 28 \text{ cm}$$

ما طول ضلع المستطيل؟

- a) 18    b) 10    c) 20    d) 7