




















## ¿CLASIFICARÍAS ESTOS ANIMALES?

En esta actividad, tendrás que clasificar a los animales que se te muestran a continuación según:

- Modo de vida al que pertenecen.
- Modo de reproducción.
- Modo de alimentación.
- Estructura interna.

Para completarlo tendrás que seleccionar la opción correcta que aparece en la lista de opciones que se te ofrece, además indicar el nombre del animal.

| ANIMAL |   | MODO DE VIDA | REPRODUCCIÓN | ALIMENTACIÓN | ESTRUCTURA INTERNA |
|--------|---|--------------|--------------|--------------|--------------------|
| Nombre | Imagen  |              |              |              |                    |
|        |    |              |              |              |                    |
|        |   |              |              |              |                    |
|        |  |              |              |              |                    |
|        |  |              |              |              |                    |
|        |  |              |              |              |                    |
|        |  |              |              |              |                    |
|        |  |              |              |              |                    |
|        |  |              |              |              |                    |

|  |   |  |  |  |  |
|--|---|--|--|--|--|
|  |    |  |  |  |  |
|  |    |  |  |  |  |
|  |    |  |  |  |  |
|  |    |  |  |  |  |
|  |    |  |  |  |  |
|  |   |  |  |  |  |
|  |  |  |  |  |  |
|  |  |  |  |  |  |
|  |  |  |  |  |  |
|  |  |  |  |  |  |
|  |  |  |  |  |  |