


# GEOGRAFÍA

NOMBRE: \_\_\_\_\_

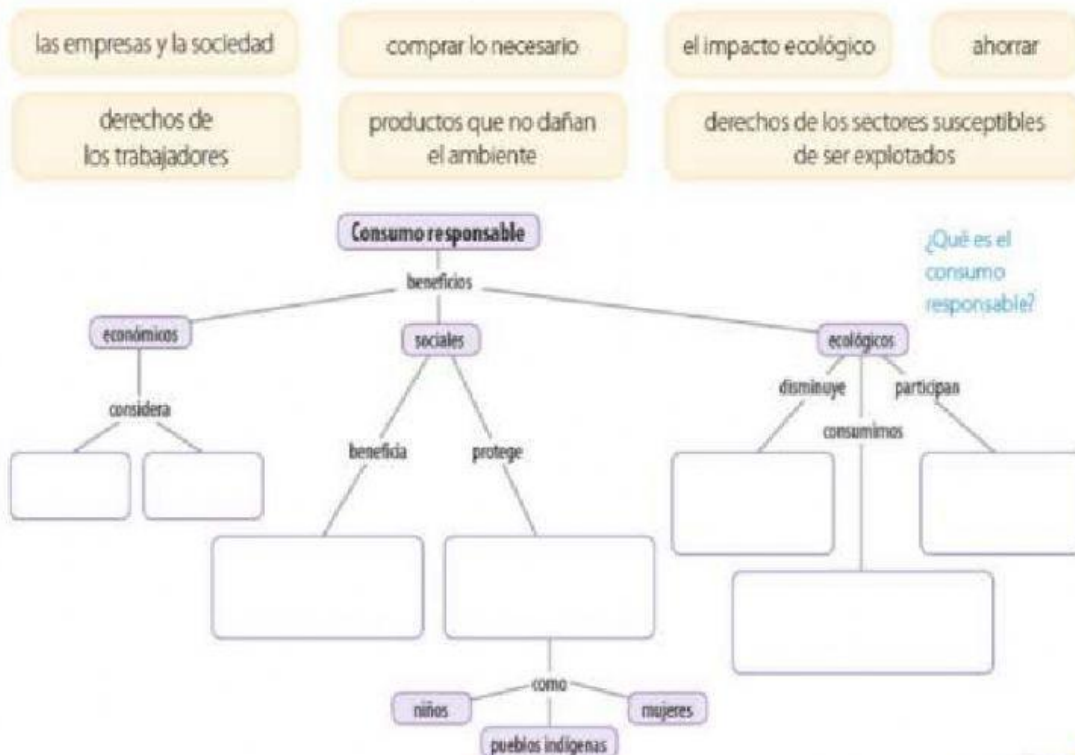
## "SOCIEDADES DE CONSUMO"

 Lee y comenta tus respuestas.

Algunas cifras del Programa de las Naciones Unidas para el Desarrollo (PNUD), respecto a las formas de consumo en el mundo, indican que:

Cada año se desperdician mil trescientos millones de toneladas de alimentos; mientras casi dos mil millones de personas padecen hambre o desnutrición.	Si todas las personas utilizaran focos de bajo consumo, el mundo ahorraría ciento veinte mil millones de dólares anuales.	El sector alimentario representa cerca del 22% de las emisiones totales de gases de efecto invernadero; en gran medida, debido a la conversión de bosques en tierras de cultivo.
A escala mundial, dos mil millones de personas tienen sobrepeso u obesidad.	Una quinta parte del consumo global de energía en 2013 provino de fuentes renovables.	Sólo el 3% del agua del mundo es potable y la consumimos más rápido que lo que la naturaleza la repone.

 1. Con las frases del recuadro completa el esquema.



2. Revisa las páginas 137 y 138 de tu libro sobre las sociedades de consumo, lee la siguiente información y realiza lo que se pide.

El consumo responsable involucra la elección de productos y servicios que consumimos de acuerdo con criterios de calidad, precio, impacto ambiental, social y ético de las empresas que los producen.

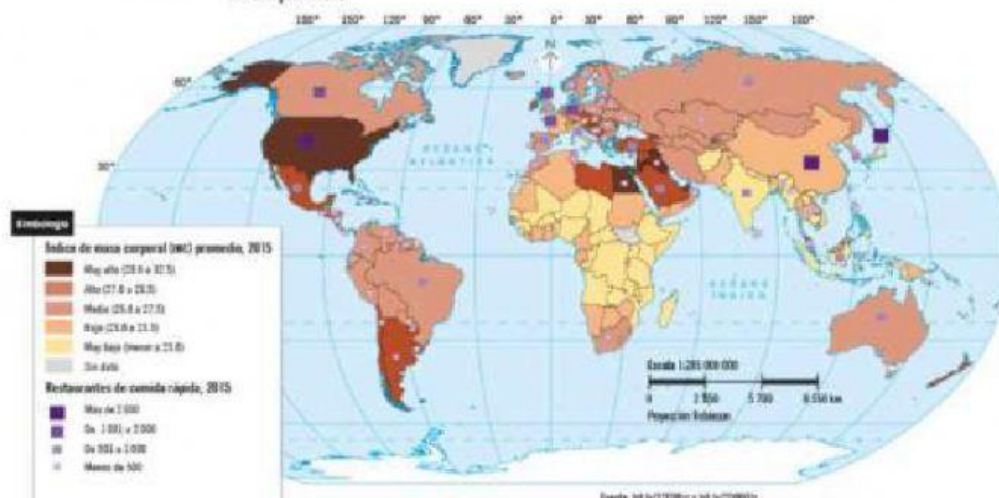
- a) Ético, pues considera los valores como base para comprar y consumir.
- b) Ecológico, ya que se trata de un consumo cuidadoso con el medio ambiente y los recursos naturales.
- c) Social, porque tiene en cuenta las condiciones laborales de las personas que intervienen en la elaboración del producto o la prestación del servicio.

- ¿El consumo de útiles escolares que realizas tiene las características de ser responsable? Explica por qué lo consideras así. \_\_\_\_\_

- Describe un caso de consumo que no considere las características éticas y ecológicas del consumo responsable. \_\_\_\_\_



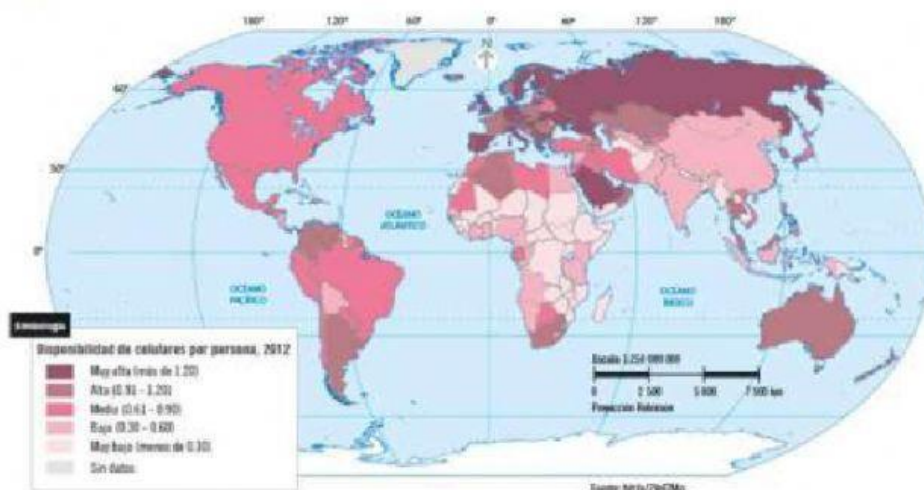
3. Analiza el mapa e indica si las afirmaciones son falsas (F) o verdaderas (V). Argumenta tu respuesta.



- ☐ Hay una relación entre el consumo y la distribución del IMC.
- ☐ En África predomina el IMC muy bajo.
- ☐ Las cadenas de comida rápida, por medio de la globalización, han impuesto modelos de consumo de alimentos poco nutritivos y se concentran en los países desarrollados.
- ☐ Los países desarrollados tienen un alto IMC.



4. Analiza el mapa y responde.



- ¿En qué países la disponibilidad de celulares por persona es muy alta? \_\_\_\_\_
- ¿Consideras que los países con más celulares por persona son los mayores consumidores de esa tecnología? Argumenta tu respuesta. \_\_\_\_\_
- ¿Por qué consideras que en algunos países una persona tiene más de un celular? \_\_\_\_\_
- ¿Cómo piensas que se relaciona esta situación con el consumo responsable? \_\_\_\_\_



Profesora Dulce Pilar Romero García