

EVALUACIÓN MATEMÁTICAS N° 3

DIVISIÓN

I. Selecciona la alternativa correcta. (2 puntos)

1. ¿Qué es dividir?

- a** Es la **misma operación** que multiplicar.
- b** Es separar en grupos de **distintas cantidades**.
- c** Es la **operación inversa** a la multiplicación.


II. Mueve las frutas y resuelve el problema. Luego, escribe una respuesta **COMPLETA**. (4 puntos por problema)

a) Matilda repartió 18 manzanas en 3 canastos.



¿Cuántas manzanas hay en cada canasto? (**Respuesta completa**)

b) Franco repartió 30 naranjas en 2 canastos.

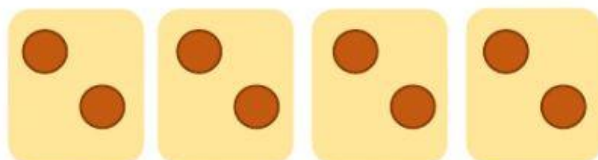


¿Cuántas naranjas hay en cada canasto? (**Respuesta completa**)

IV. Une la división con la imagen que la representa. (2 puntos cada ejercicio)




$$12 : 3$$



$$10 : 2$$



$$8 : 4$$



$$20 : 5$$

III. Une cada división con la multiplicación que lo resuelve. (1 punto cada ejercicio)

$$27 : 3$$

$$2 \bullet 7$$

$$30 : 5$$

$$3 \bullet 9$$

$$14 : 2$$

$$5 \bullet 6$$

V. Resuelve la división y escribe el resultado. Puedes usar tu material para contar.
(2 punto cada ejercicio)

a) $21 : 3 =$

b) $16 : 4 =$

c) $24 : 2 =$

d) $12 : 6 =$



REVISA TU PRUEBA