


1-Completa: (minúscula)

a) Si dos rectas que están situadas en un mismo plano por mucho que se prolonguen nunca se cortan, se llaman rectas


b) Si dos rectas, al cortarse, forman cuatro ángulos iguales se llaman rectas

c) Si dos rectas, al cortarse, forman cuatro ángulos que son iguales dos a dos, se llaman rectas

2-Escribe si son (si) o no son (no) paralelas los siguientes pares de rectas



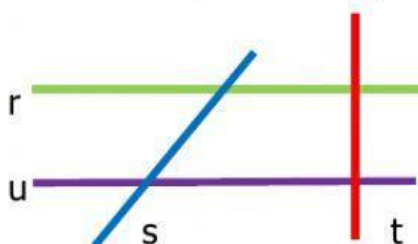
3- Escribe si son (si) o no son (no) secantes los siguientes pares de rectas



4-Clasifica estas parejas de rectas en perpendiculares, paralelas o secantes



5- Observa y contesta (minúscula) que clase de rectas son



r y s son

u y t son

s y t son

r y t son

r y u son

u y s son