



COLEGIO FREINET DEPARTAMENTO DE MATEMÁTICAS		F.AC 04 V03 01/08/2013	
ASIGNATURA MATEMÁTICAS	DOCENTE CATALINA GUZMAN	GRADO PRIMERO	

EVALUACIÓN SERIES NUMÉRICAS

DESEMPEÑO: Sigue y completa series crecientes y decrecientes

1. Halla el patrón de cada serie, realiza en tu cuaderno la operación y sólo escribe el número que te dio:



15
18
21
24
27


El patrón es:

33
31
29
27
25




El patrón es:


2. Observa cada serie numérica y escribe si es **CRECIENTE** o **DECRECIENTE**:



11
15
19
23



20
23
26
29



60
50
40
30