

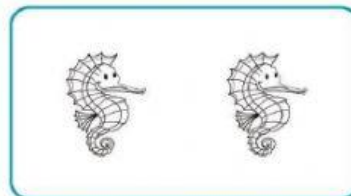
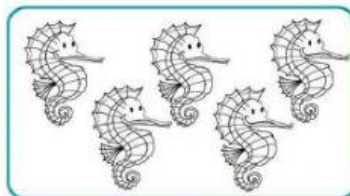

EXAMEN BIMESTRAL DE RAZONAMIENTO MATEMÁTICO

Nombre: _____ Fecha: 14/05/21

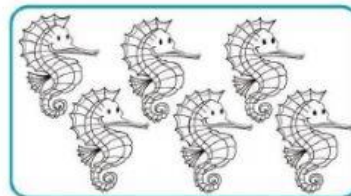
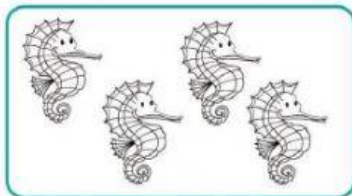
1.- Marca a los niños que se encuentran dentro de la piscina.




2.- Une cada grupo con el número que corresponde.



1 2 3 4 5 6 7 8 9 10



3.- Marca los animales que van hacia la derecha.




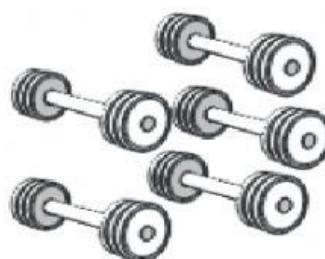
4.- Sigue la secuencia correctamente.



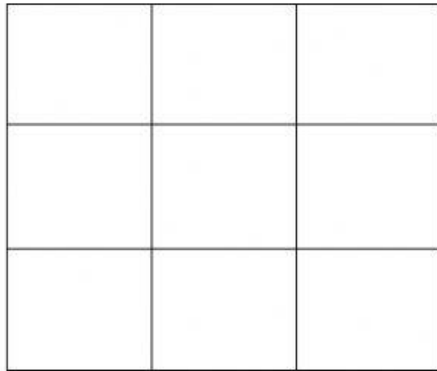
5.- Marca el número que corresponde a cada secuencia.

7	8	3	7	3	8	<div style="border: 1px dashed gray; padding: 5px; display: inline-block;">?</div>	8	3	7
9	9	9	0	9	9	<div style="border: 1px dashed gray; padding: 5px; display: inline-block;">?</div>	0	9	4
2	6	6	2	6	6	<div style="border: 1px dashed gray; padding: 5px; display: inline-block;">?</div>	2	6	8
1	5	5	4	5	5	<div style="border: 1px dashed gray; padding: 5px; display: inline-block;">?</div>	5	1	4

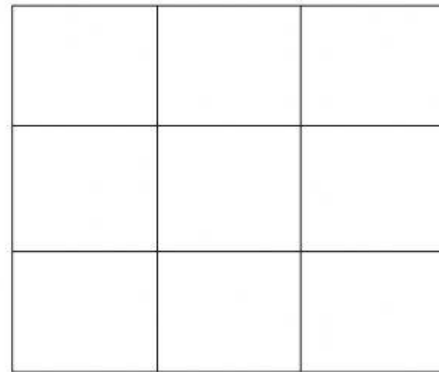
6.- Marca donde se cumpla la noción "Más que" en el N°1 y en el N°2 marca "Menos que".



7.- Marca la cuadrícula que se indique.

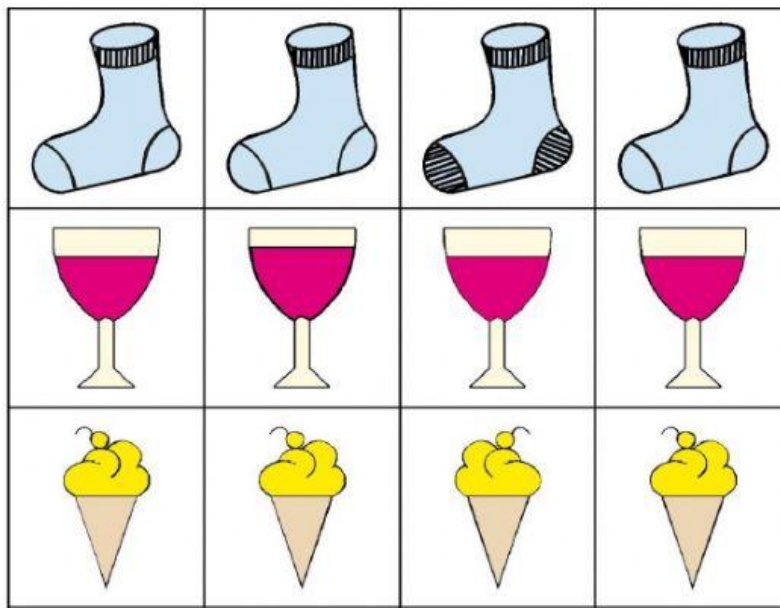


Centro-izquierda




abajo-derecha

8.- Marca la figura diferente de cada serie.



9.- Encuentra 5 diferencias en el dibujo del lado derecho.



10.- Coloca V si la oración es verdad y F si la oración es mentira.



¿VERDAD O MENTIRA?



- Hay tantos paraguas rojos como verdes.
- Hay más paraguas rojos que verdes
- Hay más paraguas verdes que rojos
- Hay menos paraguas verdes que rojos

☐
☐
☐
☐