



UNIDAD EDUCATIVA "Margarita Amestoy de Sánchez"
3º AÑO DE EDUCACIÓN GENERAL BÁSICA A-B-C-D
MATEMÁTICA


1.- Arrastra y agrupa los elementos en el conjunto correspondiente según su característica común.

A






P

2.- Seleccione las agrupaciones que NO son conjuntos.



3.- Escribe la característica común de los siguientes Conjuntos.

<div style="background-color: #f4a460; padding: 2px; display: inline-block;">S</div> 	<div style="background-color: #f4a460; padding: 2px; display: inline-block;">Q</div> 	<div style="background-color: #f4a460; padding: 2px; display: inline-block;">K</div> 
S es un conjunto de _____	Q es un conjunto de _____	K es un conjunto de _____