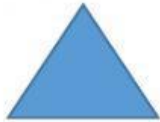








Nombre: _____

1.- Relaciona las columnas de la imagen con la figura y escribe el nombre de cada figura

$A = \frac{D * d}{2}$		
$A = b * h$		
$A = \frac{b * h}{2}$		
$A = \frac{\text{perimetro} * \text{apotema}}{2}$		
$A = 3.14 * \text{diametro}$		
$A = b * h$		
$A = \frac{(B + b) * h}{2}$		
$A = 3.14 * r^2$	