

ATIVIDADE INTERATIVA DE MATEMÁTICA - 14/05/2021

Turmas do 2º ano

NOME DO ALUNO(A):

FAÇA UM X NA SUA TURMA:

2º ano A

2º ano B

2º ano C

2º ano D



VAMOS RELEMBRAR O QUE É DEZENA?

CLIQUE COM O DEDO NO ÍCONE DE ÁUDIO PARA OUVIR O TEXTO DE **ISABEL CRISTINA SILVEIRA SOARES**:



DEZENA




VOCÊ SABE O QUE É DEZENA?



NÃO? MAS OH QUE PENA!

VOU TE ENSINAR AGORA


BATE PALMAS E ACENA!



CONTA UM,

CONTA DOIS,


CONTA TRÊS



QUATRO, CINCO, SEIS,

SETE, OITO, NOVE

CONTA DEZ DE UMA VEZ!



VOCÊ CONTOU DEZ

LIGA ESTA ANTENA

CADA 10 UNIDADES

VALE 1 DEZENA!



🔊 LEMBROU?

UMA DEZENA CORRESPONDE A DEZ UNIDADES.

1 DEZENA = 10 UNIDADES



VAMOS PRATICAR

CLIQUE NO QUADRADINHO  DA RESPOSTA CORRETA.

🔊 1) QUANTAS ABELHAS APARECEM AO LADO DO TEXTO:

☐

10 DEZENAS

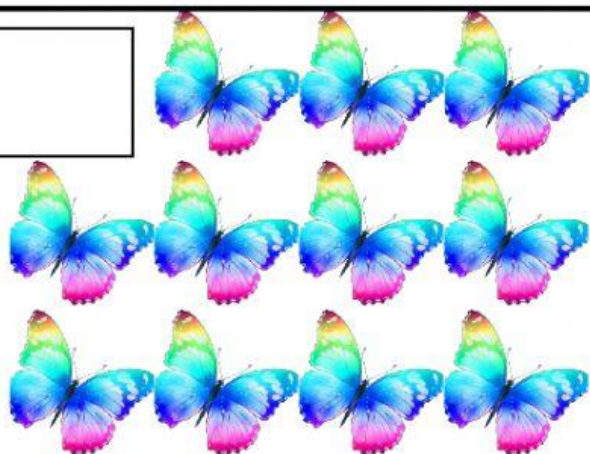



☐

1 DEZENA


☐

2 DEZENAS

🔊 2) CLIQUE APENAS NO CONJUNTO QUE TÊM 1 **DEZENA** DE ELEMENTOS.

☐☐☐☐

3) DAVI SEPAROU COM UMA LINHA **1 DEZENA** DE BALAS PARA DIVIDIR COM SEUS COLEGAS.



A) CADA BALA REPRESENTA **1 UNIDADE**. QUANTAS UNIDADES ELE SEPAROU COM UMA LINHA?

13 UNIDADES 10 UNIDADES 16 UNIDADES

B) **10 UNIDADES** EQUIVALEM A QUANTAS DEZENAS?

10 DEZENAS 9 DEZENAS 1 DEZENA

C) QUANTAS UNIDADES DE BALAS FICARAM PARA FORA DA LINHA?

10 UNIDADES 6 UNIDADES 3 UNIDADES

D) QUANTAS BALAS DAVI TÊM NO TOTAL?

10 BALAS 6 BALAS 16BALAS

E) COMPLETE A FRASE ARRASTANDO AS PALAVRAS.

UNIDADES

DEZENA

DAVI TÊM 1 _____ E 6 _____ DE BALAS.

4) A PROFESSORA CIRCULOU 10 PIÕES. AGORA CONTE TODOS OS PIÕES E COMPLETE A FRASE ABAIXO ARRASTANDO O NÚMERO CORRETO.



FORAM CIRCULADOS PIÕES OU DEZENA DE PIÕES.

1


9

12

10

10

5) A PROFESSORA CERCOU COM UMA LINHA 10 FLORES. AGORA CONTE TODAS AS FLORES E COMPLETE A FRASE ABAIXO ARRASTANDO O NÚMERO CORRETO.



HÁ DEZENA DE FLORES MAIS FLORES.

10

5

12

1

15

6) **LIGUE CADA ENGRADADO AMARELO A UM ENGRADADO VERMELHO CORRESPONDENTE PARA JUNTAR 10 GARRAFAS.**



AGORA VOCÊ É UM....



POIS FEZ TODA ATIVIDADE!