



## FIȘĂ DE LUCRU

### 1. Completează spațiile libere:

Debarasarea cuprinde totalitatea .....efectuate de către ospătar cu scopul de a îndepărta .....inutile, folosite sau nu, de pe.....,precum și resturile de ....., șervețele folosite etc.






### 2. Stabilește valoarea de adevăr ale următoarelor enunțuri și notează cu A, dacă apreciezi că răspunsul este corect, sau F, dacă răspunsul este fals:

Debarasarea se face numai în condițiile în care clientul a consumat tot preparatul.  
Sistemul de debarasare la o farfurie este atunci când se ridică de pe masă o singură farfurie.

Debarasarea trebuie făcută cu atenție fără a incomoda clienții.  
Timpul de debarasare trebuie să fie cât mai lung.

### 3. Completează tabelul de mai jos, precizând poziția de debarasare pentru fiecare obiect de inventar:



Nr.obiectului de inventar	Denumirea obiectului de inventar	Poziția de debarasare (dreapta sau stânga)
1	 osieră	
2	 farfurie desert	
3	 farfurie gustare	
4	 salatiară	
5	 farfurie preparat lichid	

4. În Imaginea de mai jos aveți mise-en-place-ul pentru dejun semicomplet.



- Denumiți obiectele de inventar din imagine, după reperele aferente:

1.
2.
3.
4.
5.
6.
7.
8.

9.
10.
11.
12.
13.
14.
15.
16.

- Realizați un meniu pe baza tipului de mise-en-place prezentat

- Precizați modul de debarasare a obiectelor de inventar conform meniului stabilit.