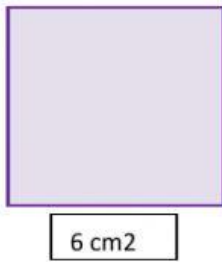


Nombre: _____

¿Cuál es el área de las siguientes figuras?




Formula:
A=

Sustitución:
A=

Operaciones:

Resultado:
A=




Formula:
A=

Sustitución:
A=

Operaciones:

Resultado:
A=

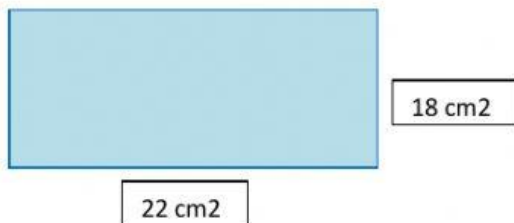


Formula:
A=

Sustitución:
A=

Operaciones:

Resultado:
A=

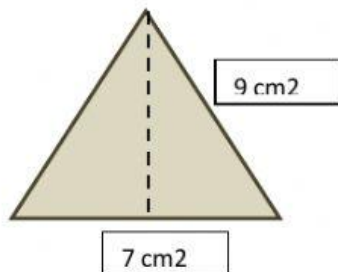


Formula:
A=

Sustitución:
A=

Operaciones:

Resultado:
A=



Formula:
A=

Sustitución:
A=

Operaciones:

Resultado:
A=